

Согласовано председателем НМС ФГБНУ «ФИПИ» по КИМ для участников ГИА с инвалидностью, ограниченными возможностями здоровья (протокол НМС № 1 от 07.11.2024 г.)  
Утверждено приказом ФГБНУ «ФИПИ» № 427-П от 14.11.2024 г.

**СПЕЦИФИКАЦИЯ**  
**экзаменационных материалов для проведения в 2025 году**  
**государственного выпускного экзамена по образовательным**  
**программам основного общего образования (письменная форма)**  
**по МАТЕМАТИКЕ**

### 1. Назначение экзаменационной работы

Государственный выпускной экзамен (ГВЭ) представляет собой форму государственной итоговой аттестации по образовательным программам основного общего образования, проводимой в целях определения соответствия результатов освоения обучающимися образовательных программ основного общего образования соответствующим требованиям федерального государственного образовательного стандарта. ГВЭ проводится для обучающихся, осваивающих образовательные программы основного общего образования в специальных учебно-воспитательных учреждениях закрытого типа, а также в учреждениях, исполняющих наказание в виде лишения свободы, а также для обучающихся, экстернов с ограниченными возможностями здоровья, обучающихся, экстернов – детей-инвалидов и инвалидов, осваивающих образовательные программы основного общего образования.

ГВЭ проводится в соответствии с Федеральным законом от 29.12.2012 № 273-ФЗ «Об образовании в Российской Федерации» и Порядком проведения государственной итоговой аттестации по образовательным программам основного общего образования, утверждённым приказом Минпросвещения России и Рособнадзора от 04.04.2023 № 232/551 (зарегистрирован Минюстом России 12.05.2023 № 73292).

### 2. Документы, определяющие содержание экзаменационной работы

Содержание экзаменационных материалов ГВЭ-9 определяется на основе федерального государственного образовательного стандарта основного общего образования (далее – ФГОС):

1) приказ Министерства просвещения Российской Федерации от 31.05.2021 № 287 «Об утверждении федерального государственного образовательного стандарта основного общего образования»;

2) приказ Министерства образования и науки Российской Федерации от 17.12.2010 № 1897 (с изменениями 2014–2022 гг.);

3) письмо Рособнадзора от 19.12.2023 № 04-389.

Детализированные требования к результатам освоения основной образовательной программы основного общего образования, проверяемые на

основе ФГОС 2021 г., являются преемственными по отношению к требованиям ФГОС 2010 г.

При разработке экзаменационных материалов ГВЭ-9 учитывается содержание федеральной образовательной программы основного общего образования (приказ Министерства просвещения Российской Федерации от 18.05.2023 № 370 «Об утверждении федеральной образовательной программы основного общего образования» (с изменениями)), федеральной адаптированной образовательной программы основного общего образования для обучающихся с ограниченными возможностями здоровья (приказ Министерства просвещения Российской Федерации от 24.11.2022 № 1025 «Об утверждении федеральной адаптированной образовательной программы основного общего образования для обучающихся с ограниченными возможностями здоровья»).

### 3. Общие подходы к отбору содержания, разработке структуры экзаменационной работы

При разработке структуры и отборе содержания экзаменационной работы реализованы системно-деятельностный, уровневый и комплексный подходы к оценке образовательных достижений обучающихся.

Личностные результаты освоения обучающимися основной образовательной программы (на основе ФГОС 2021 г.) отражают готовность обучающихся руководствоваться системой позитивных ценностных ориентаций и расширение опыта деятельности на её основе и в процессе реализации основных направлений воспитательной деятельности. Содержание и результаты выполнения заданий ГВЭ связаны в том числе с достижением личностных результатов освоения основной образовательной программы в части физического, трудового, экологического воспитания, а также принятия ценности научного познания.

Включённые в экзаменационную работу задания выявляют достижение метапредметных и предметных результатов освоения основной образовательной программы основного общего образования. При выполнении заданий, помимо предметных знаний, умений, навыков и способов познавательной деятельности, востребованы также универсальные учебные познавательные (замещение, моделирование, кодирование и декодирование информации, логические операции, включая общие приёмы решения задач и др.), коммуникативные (адекватно передавать информацию и отображать предметное содержание и условия деятельности и речи, аргументировать и обосновывать свою позицию, задавать вопросы, необходимые для организации собственной деятельности и сотрудничества с партнёром и др.) и регулятивные (способность принимать и сохранять учебную цель и задачу, планировать её реализацию, контролировать и оценивать свои действия, вносить соответствующие коррективы в их выполнение, осуществлять констатирующий и предвосхищающий контроль по результату и способу действия, актуальный контроль на уровне произвольного внимания и др.) действия.

При составлении заданий и экзаменационной работы в целом учитываются предусмотренные федеральной адаптированной образовательной программой основного общего образования для обучающихся с ограниченными возможностями здоровья обобщённые критерии «знание и понимание», «применение», «функциональность».

Для глухих, слабослышащих, позднооглохших, имеющих кохлеарные импланты участников экзамена с учётом их образовательных потребностей адаптированы текстовые части задач, что подразумевает упрощение конструкций по грамматическому и семантическому оформлению, использование преимущественно общеупотребительной лексики.

#### 4. Виды экзаменационной работы ГВЭ-9

Письменный экзамен ГВЭ-9 по математике проводится в нескольких форматах в целях учёта возможностей разных категорий его участников: участников без ОВЗ и участников с ОВЗ.

**Экзаменационные материалы с 100-ми номерами вариантов** – для участников ГВЭ-9 без ОВЗ и обучающихся с ОВЗ: глухих, слабослышащих, позднооглохших, имеющих кохлеарные имплантаты экзаменуемых; с тяжёлыми нарушениями речи; для обучающихся, экстернов с нарушениями опорно-двигательного аппарата (далее – НОДА), осваивающих вариант 6.1 ФАОП ООО<sup>1</sup>; с расстройствами аутистического спектра; иных категорий участников ГВЭ, которым требуется создание специальных условий (с диабетом, онкологическими заболеваниями, астмой и др.).

**Экзаменационные материалы с 200-ми номерами вариантов** – для слепых обучающихся, слабовидящих и поздноослепших обучающихся. Для слепых обучающихся задания переводятся на рельефно-точечный шрифт Брайля. Экзаменационные материалы аналогичны 100-м номерам вариантов, но в текстах заданий сведено к минимуму количество изображений.

**Экзаменационные материалы с 300-ми номерами вариантов** – для участников ГВЭ-9 с задержкой психического развития, обучающихся по адаптированным основным общеобразовательным программам; для обучающихся с НОДА, осваивающих вариант 6.2 ФАОП ООО.

#### Описание экзаменационных материалов с 100-ми номерами вариантов

#### 5. Структура и содержание экзаменационной работы

Каждый вариант экзаменационной работы с 100-ми номерами вариантов содержит 14 заданий базового уровня сложности. Во всех заданиях необходимо записать ответ в виде целого числа, конечной десятичной дроби или последовательности цифр.

<sup>1</sup> По заключению психолого-медико-педагогической комиссии (далее – ПМПК) участникам ГВЭ-9 с НОДА, РАС, обучающимся по ФАОП ООО любого варианта программы, могут быть рекомендованы экзаменационные материалы с 300-ми номерами вариантов.

Задания группируются исходя из их тематической принадлежности: алгебра, геометрия, вероятность и статистика.

В экзаменационной работе ГВЭ-9 контролируются элементы содержания из следующих учебных курсов математики:

1. *Математика*. 5–6 классы;
2. *Алгебра*. 7–9 классы;
3. *Геометрия*. 7–9 классы;
4. *Вероятность и статистика*. 7–9 классы.

В таблице 1 приведено распределение заданий по основным содержательным разделам.

Таблица 1

Распределение заданий по основным содержательным разделам (темам)  
курса математики

Содержательные разделы (темы) курса	Количество заданий
Алгебра	9
Геометрия	4
Вероятность и статистика	1
Итого	14

#### 6. Распределение заданий экзаменационной работы по уровням сложности

К заданиям базового уровня относится 14 заданий, направленных на проверку освоения базовых умений и практических навыков применения математических знаний в повседневных ситуациях.

#### 7. Продолжительность экзамена

На выполнение экзаменационной работы по математике даётся 3 часа 55 минут (235 минут).

#### 8. Дополнительные материалы и оборудование

Перечень дополнительных материалов и оборудования, использование которых разрешено при проведении ГВЭ-9, утверждается приказом Минпросвещения России и Рособрназора.

Необходимые справочные материалы выдаются вместе с текстом экзаменационной работы. При выполнении заданий ГВЭ-9 в письменной форме разрешается пользоваться линейкой.

### 9. Система оценивания выполнения отдельных заданий и экзаменационной работы в целом

Каждое из заданий 1–14 с кратким ответом считается выполненным, если записанный ответ совпадает с верным ответом.

Максимальный первичный балл за выполнение экзаменационной работы – 14.

Результатом экзамена является отметка, которая определяется путём перевода первичных баллов, полученных участником экзамена за выполнение всех заданий экзаменационной работы, в пятибалльную систему оценки. Шкала перевода устанавливается органом исполнительной власти субъекта Российской Федерации, осуществляющим государственное управление в сфере образования.

В таблице 2 приведена рекомендуемая шкала перевода первичных баллов в пятибалльную отметку.

Таблица 2

Рекомендуемая шкала перевода первичных баллов в пятибалльную отметку

Отметка по пятибалльной шкале	«2»	«3»	«4»	«5»
Диапазон первичных баллов	0–3	4–6	7–9	10–14

### 10. Изменения в экзаменационных материалах 2025 года по сравнению с 2024 годом

Общее количество заданий увеличено с 12 до 14 за счёт включения трёх практико-ориентированных заданий и удаления одного задания повышенного уровня сложности. Исключено задание по геометрии с развёрнутым ответом. Исключено задание 11 по алгебре с развёрнутым ответом, вместо него включено задание с кратким ответом, проверяющее те же умения. Максимальный первичный балл не изменился.

### Обобщённый план варианта экзаменационных материалов ГВЭ-9 (письменная форма) 2025 года по МАТЕМАТИКЕ (100-е номера вариантов)

Уровни сложности задания: Б – базовый, П – повышенный.

№ задания	Проверяемые предметные результаты освоения основной образовательной программы	Уровень сложности	Максимальный первичный балл за выполнение задания
1	Умение решать задачи разных типов; умение решать задачи, в том числе из повседневной жизни	Б	1
2	Умение решать задачи разных типов; умение исследовать полученное решение; умение решать задачи, в том числе из повседневной жизни	Б	1
3	Умение решать задачи разных типов, исследовать полученное решение; умение решать задачи, в том числе из повседневной жизни, нахождение геометрических величин с применением изученных свойств фигур и фактов	Б	1
4	Умение выполнять действия с числами, представлять числа на координатной прямой; умение делать прикидку и оценку результата вычислений	Б	1
5	Умение решать линейные и квадратные уравнения, системы линейных уравнений, линейные неравенства и их системы, квадратные и дробно-рациональные неравенства, в том числе при решении задач из других предметов и практических задач	Б	1
6	Умение выполнять расчёты по формулам, преобразования выражений, в том числе с использованием формул разности квадратов и квадрата суммы и разности	Б	1
7	Умение строить графики функций, использовать графики для определения свойств процессов и зависимостей для решения задач из других учебных предметов и реальной жизни; умение выражать формулами зависимости между величинами	Б	1
8	Умение решать линейные и квадратные уравнения, системы линейных уравнений, линейные неравенства и их системы, квадратные и дробно-рациональные неравенства, в том числе при решении задач из других предметов и практических задач; умение использовать координатную прямую и координатную плоскость для изображения решений уравнений, неравенств и систем	Б	1

№ задания	Проверяемые предметные результаты освоения основной образовательной программы	Уровень сложности	Максимальный первичный балл за выполнение задания
9	Умение применять формулы периметра и площади многоугольников, длины окружности и площади круга, объёма прямоугольного параллелепипеда; умение применять признаки равенства треугольников, теорему о сумме углов треугольника, теорему Пифагора, тригонометрические соотношения для вычисления длин, расстояний, площадей	Б	1
10	Умение применять формулы периметра и площади многоугольников, длины окружности и площади круга, объёма прямоугольного параллелепипеда; умение применять признаки равенства треугольников, теорему о сумме углов треугольника, теорему Пифагора, тригонометрические соотношения для вычисления длин, расстояний, площадей	Б	1
11	Умение распознавать истинные и ложные высказывания	Б	1
12	Умение решать задачи разных типов; умение составлять выражения, уравнения, неравенства и системы по условию задачи, исследовать полученное решение	Б	1
13	Умение находить вероятности случайных событий в опытах с равновероятными элементарными событиями	Б	1
14	Умение решать задачи разных типов; умение составлять выражения, уравнения, неравенства и системы по условию задачи, исследовать полученное решение	Б	1
<p>Всего заданий – 14; из них по типу заданий: с кратким ответом – 14; по уровню сложности: Б – 14. Максимальный первичный балл за работу – 14. Общее время выполнения работы – 3 часа 55 минут (235 минут).</p>			

### Описание экзаменационной работы с 200-ми номерами вариантов

#### 5. Структура и содержание экзаменационной работы

Каждый вариант экзаменационной работы с 200-ми номерами вариантов содержит 11 заданий базового уровня сложности и 1 задание повышенного уровня сложности. Во всех заданиях необходимо записать ответ в виде целого числа, конечной десятичной дроби или последовательности цифр.

Задания группируются исходя из их тематической принадлежности: алгебра, геометрия, вероятность и статистика.

В экзаменационной работе ГВЭ-9 контролируются элементы содержания из следующих учебных курсов математики:

1. Математика. 5–6 классы;
2. Алгебра. 7–9 классы;
3. Геометрия. 7–9 классы;
4. Вероятность и статистика. 7–9 классы.

В таблице 3 приведено распределение заданий по основным содержательным разделам.

Таблица 3

Распределение заданий по основным содержательным разделам (темам) курса математики

Содержательные разделы (темы) курса	Количество заданий
Алгебра	8
Геометрия	3
Вероятность и статистика	1
Итого	12

#### 6. Распределение заданий экзаменационной работы по уровням сложности

К заданиям базового уровня относится 11 заданий, направленных на проверку освоения базовых умений и практических навыков применения математических знаний в повседневных ситуациях. К заданиям повышенного уровня относится одно задание, направленное на проверку освоения математики на повышенном уровне сложности.

#### 7. Продолжительность экзамена

На выполнение экзаменационной работы по математике даётся 3 часа 55 минут (235 минут).

**8. Дополнительные материалы и оборудование**

Перечень дополнительных материалов и оборудования, использование которых разрешено при проведении ГВЭ-9, утверждается приказом Минпросвещения России и Рособрназора.

Необходимые справочные материалы выдаются вместе с текстом экзаменационной работы. При выполнении заданий ГВЭ-9 в письменной форме разрешается пользоваться линейкой.

**9. Система оценивания выполнения отдельных заданий и экзаменационной работы в целом**

Каждое из заданий 1–12 считается выполненным, если записанный ответ совпадает с верным ответом.

Максимальный первичный балл за выполнение экзаменационной работы – 12.

Результатом экзамена является отметка, которая определяется путём перевода первичных баллов, полученных участником экзамена за выполнение всех заданий экзаменационной работы, в пятибалльную систему оценки. Шкала перевода устанавливается органом исполнительной власти субъекта Российской Федерации, осуществляющим государственное управление в сфере образования.

В таблице 4 приведена рекомендуемая шкала перевода первичных баллов в пятибалльную отметку.

*Таблица 4  
Рекомендуемая шкала перевода первичных баллов  
в пятибалльную отметку*

Отметка по пятибалльной шкале	«2»	«3»	«4»	«5»
Диапазон первичных баллов	0–3	4–6	7–9	10–12

**10. Изменения в экзаменационных материалах 2025 года по сравнению с 2024 годом**

Общее число заданий не изменилось. Добавлены задания на вычисления по формулам и свойства последовательностей, но исключено задание повышенного уровня сложности по геометрии и одна из текстовых задач. Максимальный первичный балл уменьшился с 14 до 12. В справочные материалы добавлены словесные формулировки теорем о площадях и свойствах прямоугольного треугольника.

**Обобщённый план варианта экзаменационных материалов  
ГВЭ-9 (письменная форма) 2025 года по МАТЕМАТИКЕ  
(200-е номера вариантов)**

*Уровни сложности задания: Б – базовый, П – повышенный.*

№ задания	Проверяемые требования к результатам освоения основной образовательной программы	Уровень сложности	Максимальный первичный балл
1	Умение выполнять действия с числами, представлять числа на координатной прямой; умение делать прикидку и оценку результата вычислений	Б	1
2	Умение решать линейные и квадратные уравнения, системы линейных уравнений, линейные неравенства и их системы, квадратные и дробно-рациональные неравенства, в том числе при решении задач из других предметов и практических задач	Б	1
3	Умение выполнять расчёты по формулам, преобразования выражений, в том числе с использованием формул разности квадратов и квадрата суммы и разности	Б	1
4	Умение строить графики функций, использовать графики для определения свойств процессов и зависимостей для решения задач из других учебных предметов и реальной жизни; умение выражать формулами зависимости между величинами	Б	1
5	Умение решать линейные и квадратные уравнения, системы линейных уравнений, линейные неравенства и их системы, квадратные и дробно-рациональные неравенства, в том числе при решении задач из других предметов и практических задач; умение использовать координатную прямую и координатную плоскость для изображения решений уравнений, неравенств и систем	Б	1
6	Умение применять формулы периметра и площади многоугольников, длины окружности и площади круга, объёма прямоугольного параллелепипеда; умение применять признаки равенства треугольников, теорему о сумме углов треугольника, теорему Пифагора, тригонометрические соотношения для вычисления длин, расстояний, площадей	Б	1
7	Умение применять формулы периметра и площади многоугольников, длины окружности и площади круга, объёма прямоугольного параллелепипеда; умение применять признаки равенства треугольников, теорему о сумме углов треугольника, теорему Пифагора, тригонометрические соотношения для вычисления длин, расстояний, площадей	Б	1

№ задания	Проверяемые требования к результатам освоения основной образовательной программы	Уровень сложности	Максимальный первичный балл
8	Умение распознавать истинные и ложные высказывания	Б	1
9	Умение выполнять расчёты по формулам, преобразования выражений, в том числе с использованием формул разности квадратов и квадрата суммы и разности	Б	1
10	Умение находить вероятности случайных событий в опытах с равновероятными элементарными событиями	Б	1
11	Умение использовать свойства последовательностей, формулы суммы и общего члена при решении задач, в том числе задач из других учебных предметов и реальной жизни	Б	1
12	Умение решать задачи разных типов; умение составлять выражения, уравнения, неравенства и системы по условию задачи, исследовать полученное решение	П	1
<p>Всего заданий – <b>12</b>; из них по типу заданий: с кратким ответом – <b>12</b>; по уровню сложности: Б – <b>11</b>; П – <b>1</b>. Максимальный первичный балл за работу – <b>12</b>. Общее время выполнения работы – <b>3 часа 55 минут (235 минут)</b>.</p>			

### Описание экзаменационной работы с 300-ми номерами вариантов

#### 5. Структура и содержание экзаменационной работы

Каждый вариант экзаменационной работы с 300-ми номерами вариантов содержит 10 заданий базового уровня сложности с кратким ответом, в которых необходимо записать ответ в виде целого числа, конечной десятичной дроби или последовательности цифр.

Задания группируются исходя из их тематической принадлежности: алгебра, геометрия, вероятность и статистика.

В экзаменационной работе ГВЭ-9 контролируются элементы содержания из следующих учебных курсов математики:

1. *Математика*. 5–6 классы;
2. *Алгебра*. 7–9 классы;
3. *Геометрия*. 7–9 классы;
4. *Вероятность и статистика*. 7–9 классы.

В таблице 5 приведено распределение заданий по основным содержательным разделам.

Таблица 5  
Распределение заданий по основным содержательным разделам (темам) курса математики

Содержательные разделы (темы) курса	Количество заданий
Алгебра	6
Геометрия	3
Вероятность и статистика	1
Итого	10

#### 6. Распределение заданий экзаменационной работы по уровням сложности

В экзаменационной работе представлены задания базового уровня сложности. Эти задания направлены на проверку освоения базовых умений и практических навыков применения математических знаний в повседневных ситуациях.

#### 7. Продолжительность экзамена

На выполнение экзаменационной работы по математике даётся 3 часа 55 минут (235 минут).

**8. Дополнительные материалы и оборудование**

Перечень дополнительных материалов и оборудования, использование которых разрешено при проведении ГВЭ-9, утверждается приказом Минпросвещения России и Рособнадзора.

Необходимые справочные материалы выдаются вместе с текстом экзаменационной работы. При выполнении заданий ГВЭ-9 в письменной форме разрешается пользоваться линейкой.

**9. Система оценивания выполнения отдельных заданий и экзаменационной работы в целом**

Каждое из заданий 1–10 с кратким ответом считается выполненным, если записанный ответ совпадает с верным ответом.

Максимальный первичный балл за выполнение экзаменационной работы – 10.

Результатом экзамена является отметка, которая определяется путём перевода первичных баллов, полученных участником экзамена за выполнение всех заданий экзаменационной работы, в пятибалльную систему оценки. Шкала перевода устанавливается органом исполнительной власти субъекта Российской Федерации, осуществляющим государственное управление в сфере образования.

В таблице 6 приведена рекомендуемая шкала перевода первичных баллов в пятибалльную отметку.

*Таблица 6  
Рекомендуемая шкала перевода первичных баллов  
в пятибалльную отметку*

Отметка по пятибалльной шкале	«2»	«3»	«4»	«5»
Диапазон первичных баллов	0–2	3–5	6–8	9–10

**10. Изменения в экзаменационных материалах 2025 года по сравнению с 2024 годом**

Изменения структуры и содержания экзаменационных материалов отсутствуют.

**Обобщённый план варианта экзаменационных материалов  
ГВЭ-9 (письменная форма) 2025 года по МАТЕМАТИКЕ  
(300-е номера вариантов)**

*Уровень сложности задания: Б – базовый.*

№ задания	Проверяемые требования к результатам освоения основной образовательной программы	Уровень сложности	Максимальный первичный балл
1	Умение выполнять действия с числами, представлять числа на координатной прямой; умение делать прикидку и оценку результата вычислений	Б	1
2	Умение решать линейные и квадратные уравнения, системы линейных уравнений, линейные неравенства и их системы, квадратные и дробно-рациональные неравенства, в том числе при решении задач из других предметов и практических задач	Б	1
3	Умение выполнять расчёты по формулам, преобразования выражений, в том числе с использованием формул разности квадратов и квадрата суммы и разности	Б	1
4	Умение строить графики функций, использовать графики для определения свойств процессов и зависимостей для решения задач из других учебных предметов и реальной жизни; умение выражать формулами зависимости между величинами	Б	1
5	Умение решать линейные и квадратные уравнения, системы линейных уравнений, линейные неравенства и их системы, квадратные и дробно-рациональные неравенства, в том числе при решении задач из других предметов и практических задач; умение использовать координатную прямую и координатную плоскость для изображения решений уравнений, неравенств и систем	Б	1
6	Умение применять формулы периметра и площади многоугольников, длины окружности и площади круга, объёма прямоугольного параллелепипеда; умение применять признаки равенства треугольников, теорему о сумме углов треугольника, теорему Пифагора, тригонометрические соотношения для вычисления длин, расстояний, площадей	Б	1
7	Умение применять формулы периметра и площади многоугольников, длины окружности и площади круга, объёма прямоугольного параллелепипеда; умение применять признаки равенства треугольников, теорему о сумме углов треугольника, теорему Пифагора, тригонометрические соотношения для вычисления длин, расстояний, площадей	Б	1
8	Умение распознавать истинные и ложные высказывания	Б	1

№ задания	Проверяемые требования к результатам освоения основной образовательной программы	Уровень сложности	Максимальный первичный балл
9	Умение решать задачи разных типов; умение исследовать полученное решение; умение решать задачи, в том числе из повседневной жизни	Б	1
10	Умение находить вероятности случайных событий в опытах с равновероятными элементарными событиями	Б	1

Всего заданий – **10**;

из них по типу заданий: с кратким ответом – **10**;

по уровню сложности: Б – **10**.

Максимальный первичный балл за работу – **10**.

Общее время выполнения работы – **3 часа 55 минут (235 минут)**.

### Пояснения к образцам экзаменационных материалов

#### ГВЭ-9 (письменная форма) по МАТЕМАТИКЕ

При ознакомлении с образцами экзаменационных материалов ГВЭ-9 (письменная форма) следует иметь в виду, что в образце представлены конкретные примеры заданий, не исчерпывающие всего многообразия возможных формулировок заданий на каждой позиции варианта экзаменационной работы.

Назначение каждого образца экзаменационного материала заключается в том, чтобы дать возможность любому участнику ГВЭ составить представление о структуре будущих вариантов экзаменационных материалов, количестве заданий, об их форме и уровне сложности.

Эти сведения позволят выпускникам выработать стратегию подготовки к ГВЭ-9 по математике в 2025 г.



**Образец экзаменационного материала  
ГВЭ-9 (письменная форма) 2025 года по МАТЕМАТИКЕ  
(100-е номера вариантов)**

**Инструкция по выполнению работы**

Экзаменационная работа состоит из 14 заданий базового уровня сложности с кратким ответом.

На выполнение экзаменационной работы по математике отводится 3 часа 55 минут (235 минут).

Ответы запишите в поля ответов в работе, а затем перенесите в бланк ответов. Для этого в бланке ответов запишите номера всех заданий в столбец следующим образом:

- 1)  
2)  
3)  
...  
13)  
14)

Ответы запишите в бланк ответов справа от номеров соответствующих заданий. В случае записи неверного ответа зачеркните его и запишите рядом новый.

При выполнении работы разрешается использовать линейку.

Бланк ответов заполняется яркими чёрными чернилами. Допускается использование гелевой или капиллярной ручки.

При выполнении заданий можно пользоваться черновиком. Записи в черновике не учитываются при оценивании работы.

Баллы, полученные Вами за выполненные задания, суммируются. Постарайтесь выполнить как можно больше заданий и набрать наибольшее количество баллов.

**Желаем успеха!**

**СПРАВОЧНЫЕ МАТЕРИАЛЫ ПО МАТЕМАТИКЕ**

**АЛГЕБРА**

- Формула корней квадратного уравнения:

$$x = \frac{-b \pm \sqrt{D}}{2a}, \text{ где } D = b^2 - 4ac.$$

- Если квадратный трёхчлен  $ax^2 + bx + c$  имеет два корня  $x_1$  и  $x_2$ , то

$$ax^2 + bx + c = a(x - x_1)(x - x_2);$$

если квадратный трёхчлен  $ax^2 + bx + c$  имеет единственный корень  $x_0$ , то

$$ax^2 + bx + c = a(x - x_0)^2.$$

- Абсцисса вершины параболы, заданной уравнением  $y = ax^2 + bx + c$ :

$$x_0 = -\frac{b}{2a}.$$

- Формула  $n$ -го члена арифметической прогрессии  $(a_n)$ , первый член которой равен  $a_1$  и разность равна  $d$ :

$$a_n = a_1 + d(n - 1).$$

- Формула суммы первых  $n$  членов арифметической прогрессии:

$$S_n = \frac{(a_1 + a_n)n}{2}.$$

- Формула  $n$ -го члена геометрической прогрессии  $b_n$ , первый член которой равен  $b_1$ , а знаменатель равен  $q$ :

$$b_n = b_1 \cdot q^{n-1}$$

- Формула суммы первых  $n$  членов геометрической прогрессии:

$$S_n = \frac{(q^n - 1)b_1}{q - 1}.$$

- Формулы сокращённого умножения:

$$(a + b)^2 = a^2 + 2ab + b^2;$$

$$(a - b)^2 = a^2 - 2ab + b^2;$$

$$a^2 - b^2 = (a - b)(a + b).$$

- Свойства арифметического квадратного корня:

$$\sqrt{ab} = \sqrt{a} \cdot \sqrt{b} \text{ при } a \geq 0, b \geq 0; \quad \sqrt{\frac{a}{b}} = \frac{\sqrt{a}}{\sqrt{b}} \text{ при } a \geq 0, b > 0.$$

- Свойства степени при  $a > 0, b > 0$

$$a^{-n} = \frac{1}{a^n}; \quad a^n \cdot a^m = a^{n+m}; \quad \frac{a^n}{a^m} = a^{n-m};$$

$$(a^n)^m = a^{nm}; \quad (ab)^n = a^n \cdot b^n; \quad \left(\frac{a}{b}\right)^n = \frac{a^n}{b^n}.$$

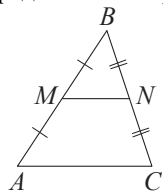
Таблица квадратов двузначных чисел

		Единицы									
		0	1	2	3	4	5	6	7	8	9
Десятки	1	100	121	144	169	196	225	256	289	324	361
	2	400	441	484	529	576	625	676	729	784	841
	3	900	961	1024	1089	1156	1225	1296	1369	1444	1521
	4	1600	1681	1764	1849	1936	2025	2116	2209	2304	2401
	5	2500	2601	2704	2809	2916	3025	3136	3249	3364	3481
	6	3600	3721	3844	3969	4096	4225	4356	4489	4624	4761
	7	4900	5041	5184	5329	5476	5625	5776	5929	6084	6241
	8	6400	6561	6724	6889	7056	7225	7396	7569	7744	7921
	9	8100	8281	8464	8649	8836	9025	9216	9409	9604	9801

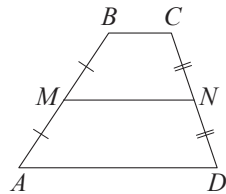
ГЕОМЕТРИЯ

Сумма углов выпуклого  $n$ -угольника равна  $180^\circ(n-2)$ .

Средняя линия треугольника и трапеции

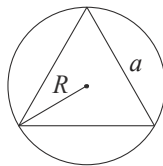


$MN$  — ср. лин.  
 $MN \parallel AC$   
 $MN = \frac{AC}{2}$

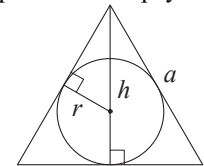


$BC \parallel AD$   
 $MN$  — ср. лин.  
 $MN \parallel AD$   
 $MN = \frac{BC + AD}{2}$

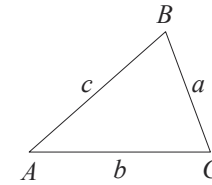
Описанная и вписанная окружности правильного треугольника



$R = \frac{a\sqrt{3}}{3}$   
 $S = \frac{a^2\sqrt{3}}{4}$



$r = \frac{a\sqrt{3}}{6}$   
 $h = \frac{a\sqrt{3}}{2}$



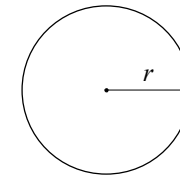
Для треугольника  $ABC$  со сторонами  $AB = c$ ,  $AC = b$ ,  $BC = a$ :

$$\frac{a}{\sin A} = \frac{b}{\sin B} = \frac{c}{\sin C} = 2R,$$

где  $R$  – радиус описанной окружности.

Для треугольника  $ABC$  со сторонами  $AB = c$ ,  $AC = b$ ,  $BC = a$ :

$$c^2 = a^2 + b^2 - 2ab \cos C.$$

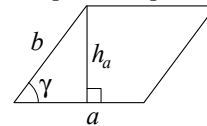


Длина окружности  $C = 2\pi r$ .

Площадь круга  $S = \pi r^2$ .

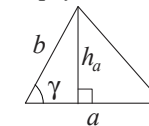
Площади фигур

Параллелограмм



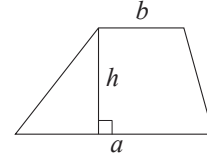
$S = ah_a$   
 $S = ab \sin \gamma$

Треугольник



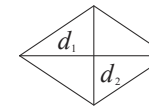
$S = \frac{1}{2} ah_a$   
 $S = \frac{1}{2} ab \sin \gamma$

Трапеция



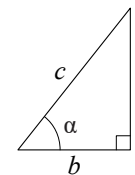
$S = \frac{a+b}{2} \cdot h$

Ромб



$d_1, d_2$  — диагонали  
 $S = \frac{1}{2} d_1 d_2$

Прямоугольный треугольник



$\sin \alpha = \frac{a}{c}$   
 $\cos \alpha = \frac{b}{c}$   
 $\operatorname{tg} \alpha = \frac{a}{b}$

Теорема Пифагора:  $a^2 + b^2 = c^2$ .

Основное тригонометрическое тождество:  $\sin^2 \alpha + \cos^2 \alpha = 1$ .

Некоторые значения тригонометрических функций

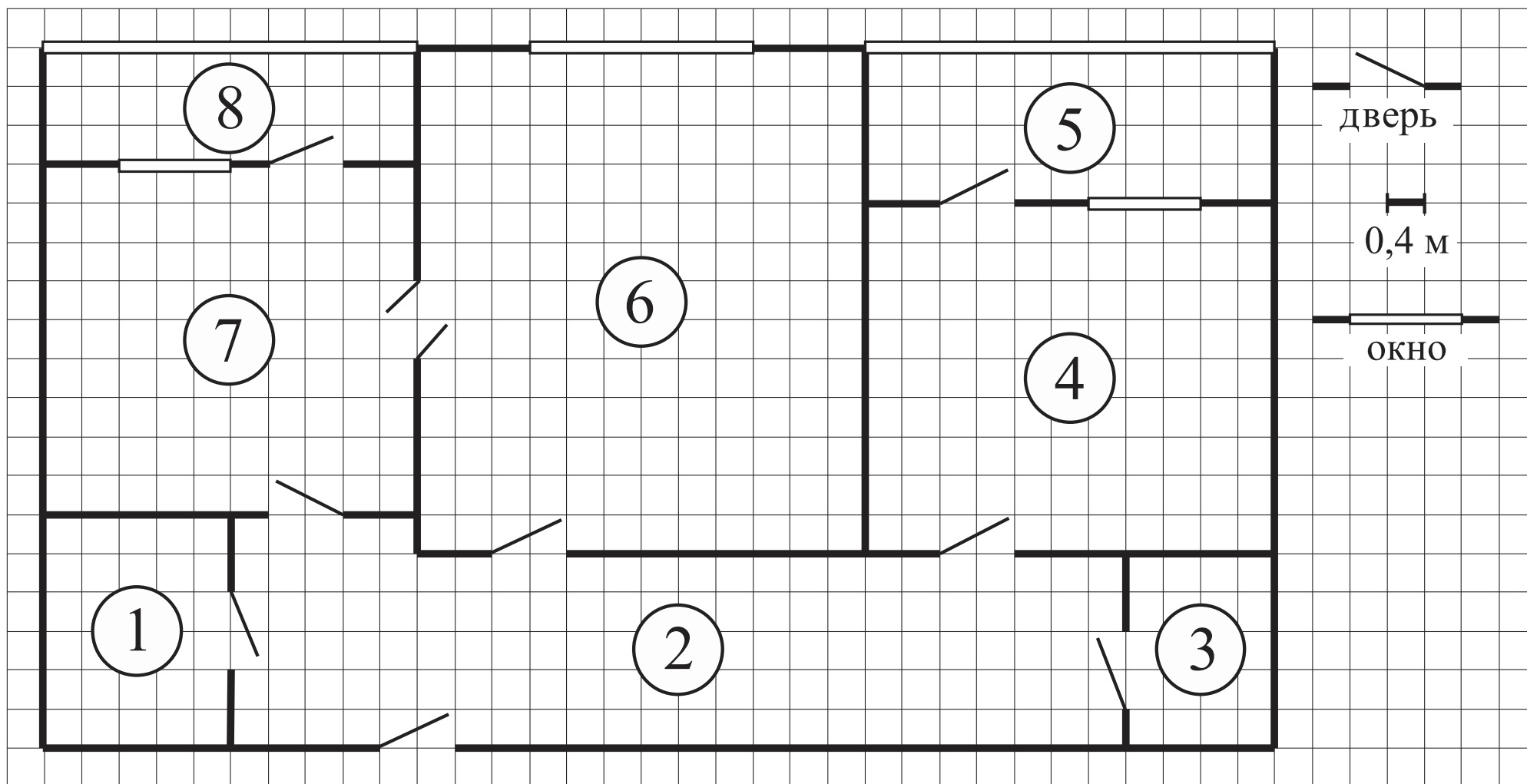
$\alpha$	градусы	$0^\circ$	$30^\circ$	$45^\circ$	$60^\circ$	$90^\circ$	$180^\circ$	$270^\circ$	$360^\circ$
$\sin \alpha$		0	$\frac{1}{2}$	$\frac{\sqrt{2}}{2}$	$\frac{\sqrt{3}}{2}$	1	0	-1	0
$\cos \alpha$		1	$\frac{\sqrt{3}}{2}$	$\frac{\sqrt{2}}{2}$	$\frac{1}{2}$	0	-1	0	1
$\operatorname{tg} \alpha$		0	$\frac{\sqrt{3}}{3}$	1	$\sqrt{3}$	—	0	—	0

**Ответами к заданиям 1–14 являются целое число, конечная десятичная дробь или последовательность цифр. Ответ запишите в поле ответа в тексте работы, затем перенесите в БЛАНК ОТВЕТОВ справа от номера соответствующего задания. Единицы измерений писать не нужно.**

**Прочитайте внимательно текст и выполните задания 1–3.**

На рисунке изображён план двухкомнатной квартиры. Сторона одной клетки на плане соответствует 0,4 м, а условные обозначения двери и окна приведены в правой части рисунка.

Вход в квартиру находится в коридоре. Слева от входа расположена дверь в ванную комнату и туалет, а в противоположном конце коридора — дверь в кладовую. Рядом с кладовой находится спальня. Из неё можно пройти на одну из лоджий. Самое большое по площади помещение — гостиная. Из неё можно попасть в коридор и на кухню. Из кухни также можно попасть на лоджию.



**1** Для объектов, указанных в таблице, определите, какими цифрами они обозначены на плане. Заполните таблицу, в бланк перенесите последовательность четырёх цифр без пробелов, запятых и других дополнительных символов.

Объекты	коридор	кладовая	спальня	гостиная
Цифры				

**2** Паркетная доска размером 20 см на 80 см продаётся в упаковках по 12 штук. Сколько упаковок паркетной доски понадобилось, чтобы выложить пол в коридоре?

Ответ: \_\_\_\_\_.

**3** На сколько процентов площадь лоджии, примыкающей к кухне, больше площади кладовой?

Ответ: \_\_\_\_\_.

**4** Представьте выражение  $\frac{5}{3} \cdot \frac{9}{2}$  в виде дроби со знаменателем 24. В ответ запишите числитель получившейся дроби.

Ответ: \_\_\_\_\_.

**5** Решите уравнение  $(-5x+3)(-x+6)=0$ . Если уравнение имеет более одного корня, в ответ запишите меньший из корней.

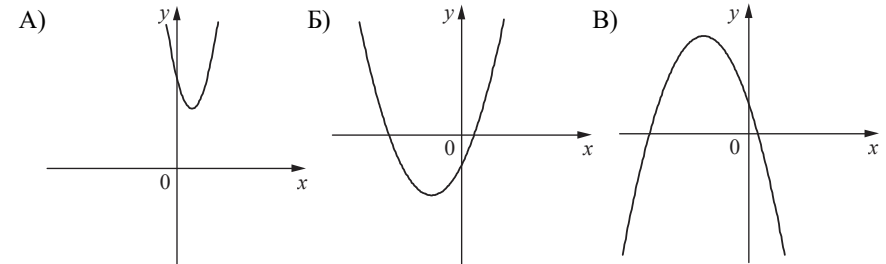
Ответ: \_\_\_\_\_.

**6** Найдите значение выражения  $2b + \frac{5a-2b^2}{b}$  при  $a=6, b=-60$ .

Ответ: \_\_\_\_\_.

**7** На рисунках изображены графики функций вида  $y = ax^2 + bx + c$ . Установите соответствие между графиками функций и знаками коэффициентов  $a$  и  $c$ .

ГРАФИКИ



КОЭФФИЦИЕНТЫ

- 1)  $a > 0, c < 0$       2)  $a < 0, c > 0$       3)  $a > 0, c > 0$

В таблице под каждой буквой укажите соответствующий номер.

Ответ:

А	Б	В

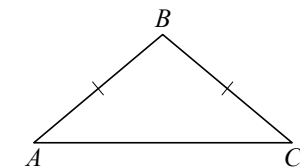
**8** Укажите решение неравенства

$$4x - 4 \geq 9x + 6.$$

- 1)  $[-0,4; +\infty)$     2)  $(-\infty; -2]$     3)  $[-2; +\infty)$     4)  $(-\infty; -0,4]$

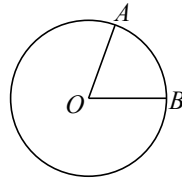
Ответ:

**9** Известно, что в треугольнике  $ABC$   $AB = BC$ ,  $\angle ABC = 108^\circ$ . Найдите угол  $BCA$ . Ответ дайте в градусах.



Ответ: \_\_\_\_\_.

- 10** На окружности с центром в точке  $O$  отмечены точки  $A$  и  $B$  так, что  $\angle AOB = 66^\circ$ . Длина меньшей дуги  $AB$  равна 99. Найдите длину большей дуги  $AB$ .



Ответ: \_\_\_\_\_.

- 11** Какие из следующих утверждений верны?

- 1) Если две стороны одного треугольника соответственно равны двум сторонам другого треугольника, то такие треугольники равны.
- 2) Сумма острых углов прямоугольного треугольника равна 90 градусам.
- 3) Любые два равносторонних треугольника подобны.

В ответ запишите номера выбранных утверждений без пробелов, запятых и других дополнительных символов.

Ответ: \_\_\_\_\_.

- 12** Мощность постоянного тока (в ваттах) вычисляется по формуле  $P = I^2 R$ , где  $I$  — сила тока (в амперах),  $R$  — сопротивление (в омах). Пользуясь этой формулой, найдите сопротивление  $R$ , если мощность составляет 150 Вт, а сила тока равна 5 А. Ответ дайте в омах.

Ответ: \_\_\_\_\_.

- 13** В среднем из 150 карманных фонариков, поступивших в продажу, три неисправных. Найдите вероятность того, что выбранный наудачу в магазине фонарик окажется исправен.

Ответ: \_\_\_\_\_.

- 14** В амфитеатре 11 рядов. В первом ряду 17 мест, а в каждом следующем на 3 места больше, чем в предыдущем. Сколько всего мест в амфитеатре?

Ответ: \_\_\_\_\_.

**Не забудьте перенести все ответы в БЛАНК ОТВЕТОВ в соответствии с инструкцией по выполнению работы.**

**Система оценивания экзаменационной работы по математике  
(100-е номера вариантов)**

Каждое из заданий 1–14 считается выполненным верно, если экзаменуемый дал верный ответ в виде целого числа, конечной десятичной дроби или последовательности цифр. Верное выполнение каждого задания оценивается 1 баллом. В ответе на задание 11 порядок записи цифр значения не имеет.

Номер задания	Правильный ответ
1	2346
2	11
3	50
4	180
5	0,6
6	–0,5
7	312
8	2
9	36
10	441
11	23
12	6
13	0,98
14	352

**Образец экзаменационного материала  
ГВЭ-9 (письменная форма) 2025 года по МАТЕМАТИКЕ  
(200-е номера вариантов)**

**Инструкция по выполнению работы**

Экзаменационная работа состоит из 11 заданий базового уровня сложности и одного задания повышенного уровня сложности с кратким ответом.

На выполнение экзаменационной работы по математике отводится 3 часа 55 минут (235 минут).

Ответы к заданиям 1–12 запишите в бланке ответов. Для этого в бланке ответов запишите номера всех заданий в столбец следующим образом:

- 1)  
2)  
3)  
...  
11)  
12)

Ответы к заданиям 1–12 запишите в бланк ответов справа от номеров соответствующих заданий. В случае записи неверного ответа зачеркните его и запишите рядом новый.

При выполнении работы разрешается использовать линейку.

Бланк ответов заполняется яркими чёрными чернилами. Допускается использование гелевой или капиллярной ручки.

При выполнении заданий можно пользоваться черновиком. Записи в черновике не учитываются при оценивании работы.

Баллы, полученные Вами за выполненные задания, суммируются. Постарайтесь выполнить как можно больше заданий и набрать наибольшее количество баллов.

**Желаем успеха!**

**СПРАВОЧНЫЕ МАТЕРИАЛЫ ПО МАТЕМАТИКЕ**

**АЛГЕБРА**

- Формула корней квадратного уравнения:

$$x = \frac{-b \pm \sqrt{D}}{2a}, \text{ где } D = b^2 - 4ac.$$

- Если квадратный трёхчлен  $ax^2 + bx + c$  имеет два корня  $x_1$  и  $x_2$ , то

$$ax^2 + bx + c = a(x - x_1)(x - x_2);$$

- если квадратный трёхчлен  $ax^2 + bx + c$  имеет единственный корень  $x_0$ , то

$$ax^2 + bx + c = a(x - x_0)^2.$$

- Абсцисса вершины параболы, заданной уравнением  $y = ax^2 + bx + c$ :

$$x_0 = -\frac{b}{2a}.$$

- Формула  $n$ -го члена арифметической прогрессии  $(a_n)$ , первый член которой равен  $a_1$  и разность равна  $d$ :

$$a_n = a_1 + d(n - 1).$$

- Формула суммы первых  $n$  членов арифметической прогрессии:

$$S_n = \frac{(a_1 + a_n)n}{2}.$$

- Формула  $n$ -го члена геометрической прогрессии  $b_n$ , первый член которой равен  $b_1$ , а знаменатель равен  $q$ :

$$b_n = b_1 \cdot q^{n-1}.$$

- Формула суммы первых  $n$  членов геометрической прогрессии:

$$S_n = \frac{(q^n - 1)b_1}{q - 1}.$$

- Формулы сокращённого умножения:

$$(a + b)^2 = a^2 + 2ab + b^2;$$

$$(a - b)^2 = a^2 - 2ab + b^2;$$

$$a^2 - b^2 = (a - b)(a + b).$$

- Свойства арифметического квадратного корня:

$$\sqrt{ab} = \sqrt{a} \cdot \sqrt{b} \text{ при } a \geq 0, b \geq 0; \quad \sqrt{\frac{a}{b}} = \frac{\sqrt{a}}{\sqrt{b}} \text{ при } a \geq 0, b > 0.$$

- Свойства степени при  $a > 0, b > 0$ .

$$a^{-n} = \frac{1}{a^n}; \quad a^n \cdot a^m = a^{n+m}; \quad \frac{a^n}{a^m} = a^{n-m};$$

$$(a^n)^m = a^{nm}; \quad (ab)^n = a^n \cdot b^n; \quad \left(\frac{a}{b}\right)^n = \frac{a^n}{b^n}.$$

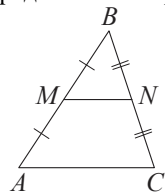
Таблица квадратов двузначных чисел

		Единицы									
		0	1	2	3	4	5	6	7	8	9
Десятки	1	100	121	144	169	196	225	256	289	324	361
	2	400	441	484	529	576	625	676	729	784	841
	3	900	961	1024	1089	1156	1225	1296	1369	1444	1521
	4	1600	1681	1764	1849	1936	2025	2116	2209	2304	2401
	5	2500	2601	2704	2809	2916	3025	3136	3249	3364	3481
	6	3600	3721	3844	3969	4096	4225	4356	4489	4624	4761
	7	4900	5041	5184	5329	5476	5625	5776	5929	6084	6241
	8	6400	6561	6724	6889	7056	7225	7396	7569	7744	7921
	9	8100	8281	8464	8649	8836	9025	9216	9409	9604	9801

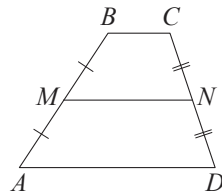
ГЕОМЕТРИЯ

Сумма углов выпуклого  $n$ -угольника равна  $180^\circ(n-2)$ .

Средняя линия треугольника и трапеции

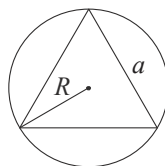


$MN$  — средняя линия  
 $MN \parallel AC$   
 $MN = \frac{AC}{2}$



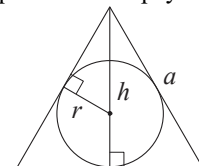
$BC \parallel AD$   
 $MN$  — средняя линия  
 $MN \parallel AD$   
 $MN = \frac{BC + AD}{2}$

Описанная и вписанная окружности правильного треугольника



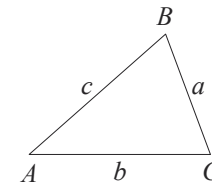
$$R = \frac{a\sqrt{3}}{3}$$

$$S = \frac{a^2\sqrt{3}}{4}$$



$$r = \frac{a\sqrt{3}}{6}$$

$$h = \frac{a\sqrt{3}}{2}$$

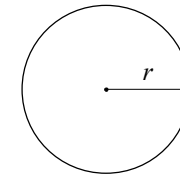


В треугольнике  $ABC$  со сторонами  $AB = c, AC = b, BC = a$ :

$$\frac{a}{\sin A} = \frac{b}{\sin B} = \frac{c}{\sin C} = 2R,$$

где  $R$  – радиус описанной окружности.

$$c^2 = a^2 + b^2 - 2ab \cos C.$$

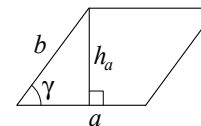


Длина окружности  $C = 2\pi r$ .

Площадь круга  $S = \pi r^2$ .

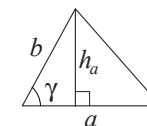
Площади фигур

- Площадь параллелограмма равна произведению стороны на высоту, проведённую к этой стороне.
- Площадь параллелограмма равна произведению двух смежных сторон на синус угла между ними.



$$S = ah_a$$

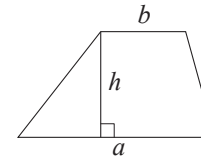
$$S = ab \sin \gamma$$



$$S = \frac{1}{2} ah_a$$

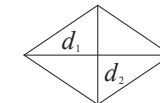
$$S = \frac{1}{2} ab \sin \gamma$$

Площадь трапеции равна произведению полусуммы оснований на высоту.



$$S = \frac{a+b}{2} \cdot h$$

Площадь ромба равна половине произведения диагоналей.

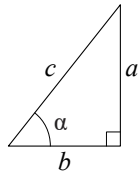


$d_1, d_2$  — диагонали

$$S = \frac{1}{2} d_1 d_2$$



**Прямоугольный треугольник**



$$\sin \alpha = \frac{a}{c}$$

$$\cos \alpha = \frac{b}{c}$$

$$\operatorname{tg} \alpha = \frac{a}{b}$$

В прямоугольном треугольнике:

1. Синус острого угла равен отношению противолежащего катета к гипотенузе.
2. Косинус острого угла равен отношению прилежащего катета к гипотенузе.
3. Тангенс острого угла равен отношению противолежащего катета к прилежащему.

Теорема Пифагора. В прямоугольном треугольнике сумма квадратов катетов равна квадрату гипотенузы:  $a^2 + b^2 = c^2$ .

Основное тригонометрическое тождество:  $\sin^2 \alpha + \cos^2 \alpha = 1$ .

Некоторые значения тригонометрических функций

$\alpha$	градусы	$0^\circ$	$30^\circ$	$45^\circ$	$60^\circ$	$90^\circ$	$180^\circ$	$270^\circ$	$360^\circ$
$\sin \alpha$		0	$\frac{1}{2}$	$\frac{\sqrt{2}}{2}$	$\frac{\sqrt{3}}{2}$	1	0	-1	0
$\cos \alpha$		1	$\frac{\sqrt{3}}{2}$	$\frac{\sqrt{2}}{2}$	$\frac{1}{2}$	0	-1	0	1
$\operatorname{tg} \alpha$		0	$\frac{\sqrt{3}}{3}$	1	$\sqrt{3}$	—	0	—	0

*Ответами к заданиям 1–12 являются целое число, конечная десятичная дробь или последовательность цифр. Ответ запишите в поле ответа в тексте работы, затем перенесите в БЛАНК ОТВЕТОВ справа от номера соответствующего задания. Единицы измерений писать не нужно.*

**1** Представьте выражение  $\frac{5}{3} \cdot \frac{9}{2}$  в виде дроби со знаменателем 24. В ответ запишите числитель получившейся дроби.

Ответ: \_\_\_\_\_.

**2** Решите уравнение  $(-5x + 3)(-x + 6) = 0$ .

Если уравнение имеет более одного корня, в ответ запишите меньший из корней.

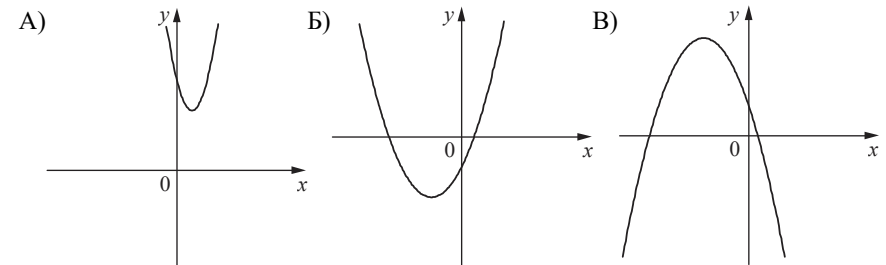
Ответ: \_\_\_\_\_.

**3** Найдите значение выражения  $2b + \frac{5a - 2b^2}{b}$  при  $a = 6$ ,  $b = -60$ .

Ответ: \_\_\_\_\_.

**4** На рисунках изображены графики функций вида  $y = ax^2 + bx + c$ . Установите соответствие между графиками функций и знаками коэффициентов  $a$  и  $c$ .

**ГРАФИКИ**



**КОЭФФИЦИЕНТЫ**

- 1)  $a > 0, c < 0$                       2)  $a < 0, c > 0$                       3)  $a > 0, c > 0$

В таблице под каждой буквой укажите соответствующий номер.

Ответ:

А	Б	В

5 Укажите решение неравенства

$$4x - 4 \geq 9x + 6.$$

- 1)  $[-0,4; +\infty)$     2)  $(-\infty; -2]$     3)  $[-2; +\infty)$     4)  $(-\infty; -0,4]$

Ответ:

6 Катеты прямоугольного треугольника равны 20 и 21. Найдите гипотенузу этого треугольника.

Ответ: \_\_\_\_\_.

7 Периметр треугольника равен 50, одна из сторон равна 20, а радиус вписанной в него окружности равен 4. Найдите площадь этого треугольника.

Ответ: \_\_\_\_\_.

8 Какие из следующих утверждений верны?

- 1) Если две стороны одного треугольника соответственно равны двум сторонам другого треугольника, то такие треугольники равны.
- 2) Сумма острых углов прямоугольного треугольника равна 90 градусам.
- 3) Любые два равносторонних треугольника подобны.

В ответ запишите номера выбранных утверждений без пробелов, запятых и других дополнительных символов.

Ответ: \_\_\_\_\_.

9 Мощность постоянного тока (в ваттах) вычисляется по формуле  $P = I^2 R$ , где  $I$  — сила тока (в амперах),  $R$  — сопротивление (в омах). Пользуясь этой формулой, найдите сопротивление  $R$ , если мощность составляет 150 Вт, а сила тока равна 5 А. Ответ дайте в омах.

Ответ: \_\_\_\_\_.

10 В среднем из 150 карманных фонариков, поступивших в продажу, три неисправных. Найдите вероятность того, что выбранный наудачу в магазине фонарик окажется исправен.

Ответ: \_\_\_\_\_.

11 В амфитеатре 12 рядов. В первом ряду 18 мест, а в каждом следующем на 2 места больше, чем в предыдущем. Сколько всего мест в амфитеатре?

Ответ: \_\_\_\_\_.

12 Из  $A$  в  $B$  одновременно выехали два автомобилиста. Первый проехал с постоянной скоростью весь путь. Второй проехал первую половину пути со скоростью, меньшей скорости первого автомобилиста на 11 км/ч, а вторую половину пути проехал со скоростью 66 км/ч, в результате чего прибыл в  $B$  одновременно с первым автомобилистом. Найдите скорость первого автомобилиста, если известно, что она больше 40 км/ч.

Ответ: \_\_\_\_\_.

**Не забудьте перенести все ответы в БЛАНК ОТВЕТОВ в соответствии с инструкцией по выполнению работы.**

**Система оценивания экзаменационной работы по математике  
(200-е номера вариантов)**

Каждое из заданий 1–12 считается выполненным верно, если экзаменуемый дал верный ответ в виде целого числа, конечной десятичной дроби или последовательности цифр. Верное выполнение каждого задания оценивается 1 баллом. В ответе на задание 8 порядок записи цифр значения не имеет.

Номер задания	Правильный ответ
1	180
2	0,6
3	–0,5
4	312
5	2
6	29
7	100
8	23
9	6
10	0,98
11	348
12	44

**Образец экзаменационного варианта  
ГВЭ-9 (письменная форма) 2025 года по МАТЕМАТИКЕ  
(300-е номера вариантов)**

**Инструкция по выполнению работы**

Экзаменационная работа состоит из 10 заданий базового уровня сложности с кратким ответом.

На выполнение экзаменационной работы по математике отводится 3 часа 55 минут (235 минут).

Ответы к заданиям 1–10 запишите в поля ответов в работе, а затем перенесите в бланк ответов. Для этого в бланке ответов запишите номера всех заданий в столбец следующим образом:

- 1)
- 2)
- 3)
- ...
- 9)
- 10)

Ответы к заданиям 1–10 запишите в бланк ответов справа от номеров соответствующих заданий. В случае записи неверного ответа зачеркните его и запишите рядом новый.

При выполнении работы разрешается использовать линейку.

Бланк ответов заполняется яркими чёрными чернилами. Допускается использование гелевой или капиллярной ручки.

При выполнении заданий можно пользоваться черновиком. Записи в черновике не учитываются при оценивании работы.

Баллы, полученные Вами за выполненные задания, суммируются. Постарайтесь выполнить как можно больше заданий и набрать наибольшее количество баллов.

**Желаем успеха!**

**СПРАВОЧНЫЕ МАТЕРИАЛЫ ПО МАТЕМАТИКЕ**

**АЛГЕБРА**

- Формула корней квадратного уравнения:

$$x = \frac{-b \pm \sqrt{D}}{2a}, \text{ где } D = b^2 - 4ac.$$

- Если квадратный трёхчлен  $ax^2 + bx + c$  имеет два корня  $x_1$  и  $x_2$ , то

$$ax^2 + bx + c = a(x - x_1)(x - x_2);$$

если квадратный трёхчлен  $ax^2 + bx + c$  имеет единственный корень  $x_0$ , то

$$ax^2 + bx + c = a(x - x_0)^2.$$

- Абсцисса вершины параболы, заданной уравнением  $y = ax^2 + bx + c$ :

$$x_0 = -\frac{b}{2a}.$$

- Формула  $n$ -го члена арифметической прогрессии  $(a_n)$ , первый член которой равен  $a_1$  и разность равна  $d$ :

$$a_n = a_1 + d(n - 1).$$

- Формула суммы первых  $n$  членов арифметической прогрессии:

$$S_n = \frac{(a_1 + a_n)n}{2}.$$

- Формула  $n$ -го члена геометрической прогрессии  $b_n$ , первый член которой равен  $b_1$ , а знаменатель равен  $q$ :

$$b_n = b_1 \cdot q^{n-1}$$

- Формула суммы первых  $n$  членов геометрической прогрессии:

$$S_n = \frac{(q^n - 1)b_1}{q - 1}.$$

- Формулы сокращённого умножения:

$$(a + b)^2 = a^2 + 2ab + b^2;$$

$$(a - b)^2 = a^2 - 2ab + b^2;$$

$$a^2 - b^2 = (a - b)(a + b).$$

- Свойства арифметического квадратного корня:

$$\sqrt{ab} = \sqrt{a} \cdot \sqrt{b} \text{ при } a \geq 0, b \geq 0; \quad \sqrt{\frac{a}{b}} = \frac{\sqrt{a}}{\sqrt{b}} \text{ при } a \geq 0, b > 0.$$

- Свойства степени при  $a > 0, b > 0$

$$a^{-n} = \frac{1}{a^n}; \quad a^n \cdot a^m = a^{n+m}; \quad \frac{a^n}{a^m} = a^{n-m};$$

$$(a^n)^m = a^{nm}; \quad (ab)^n = a^n \cdot b^n; \quad \left(\frac{a}{b}\right)^n = \frac{a^n}{b^n}.$$

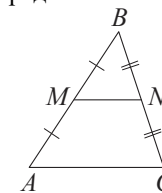
**Таблица квадратов двузначных чисел**

		Единицы									
		0	1	2	3	4	5	6	7	8	9
Десятки	1	100	121	144	169	196	225	256	289	324	361
	2	400	441	484	529	576	625	676	729	784	841
	3	900	961	1024	1089	1156	1225	1296	1369	1444	1521
	4	1600	1681	1764	1849	1936	2025	2116	2209	2304	2401
	5	2500	2601	2704	2809	2916	3025	3136	3249	3364	3481
	6	3600	3721	3844	3969	4096	4225	4356	4489	4624	4761
	7	4900	5041	5184	5329	5476	5625	5776	5929	6084	6241
	8	6400	6561	6724	6889	7056	7225	7396	7569	7744	7921
	9	8100	8281	8464	8649	8836	9025	9216	9409	9604	9801

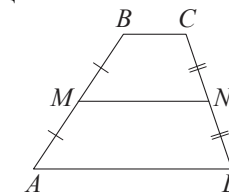
**ГЕОМЕТРИЯ**

Сумма углов выпуклого  $n$ -угольника равна  $180^\circ(n - 2)$ .

Средняя линия треугольника и трапеции

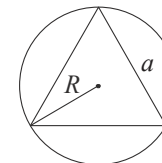


$MN$  — ср. лин.  
 $MN \parallel AC$   
 $MN = \frac{AC}{2}$

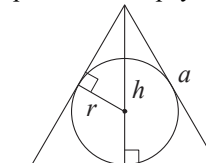


$BC \parallel AD$   
 $MN$  — ср. лин.  
 $MN \parallel AD$   
 $MN = \frac{BC + AD}{2}$

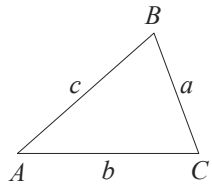
Описанная и вписанная окружности правильного треугольника



$R = \frac{a\sqrt{3}}{3}$   
 $S = \frac{a^2\sqrt{3}}{4}$



$r = \frac{a\sqrt{3}}{6}$   
 $h = \frac{a\sqrt{3}}{2}$



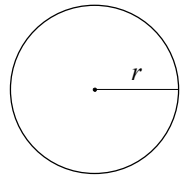
Для треугольника  $ABC$  со сторонами  $AB = c$ ,  $AC = b$ ,  $BC = a$ :

$$\frac{a}{\sin A} = \frac{b}{\sin B} = \frac{c}{\sin C} = 2R,$$

где  $R$  – радиус описанной окружности.

Для треугольника  $ABC$  со сторонами  $AB = c$ ,  $AC = b$ ,  $BC = a$ :

$$c^2 = a^2 + b^2 - 2ab \cos C.$$

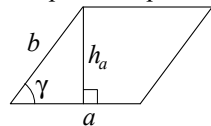


Длина окружности  $C = 2\pi r$ .

Площадь круга  $S = \pi r^2$ .

**Площади фигур**

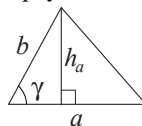
Параллелограмм



$$S = ah_a$$

$$S = ab \sin \gamma$$

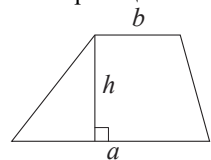
Треугольник



$$S = \frac{1}{2} ah_a$$

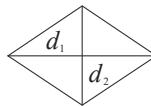
$$S = \frac{1}{2} ab \sin \gamma$$

Трапеция



$$S = \frac{a+b}{2} \cdot h$$

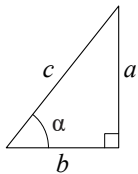
Ромб



$d_1, d_2$  — диагонали

$$S = \frac{1}{2} d_1 d_2$$

**Прямоугольный треугольник**



$$\sin \alpha = \frac{a}{c}$$

$$\cos \alpha = \frac{b}{c}$$

$$\operatorname{tg} \alpha = \frac{a}{b}$$

Теорема Пифагора:  $a^2 + b^2 = c^2$ .

Основное тригонометрическое тождество:  $\sin^2 \alpha + \cos^2 \alpha = 1$ .

**Некоторые значения тригонометрических функций**

$\alpha$	градусы	$0^\circ$	$30^\circ$	$45^\circ$	$60^\circ$	$90^\circ$	$180^\circ$	$270^\circ$	$360^\circ$
$\sin \alpha$		0	$\frac{1}{2}$	$\frac{\sqrt{2}}{2}$	$\frac{\sqrt{3}}{2}$	1	0	-1	0
$\cos \alpha$		1	$\frac{\sqrt{3}}{2}$	$\frac{\sqrt{2}}{2}$	$\frac{1}{2}$	0	-1	0	1
$\operatorname{tg} \alpha$		0	$\frac{\sqrt{3}}{3}$	1	$\sqrt{3}$	—	0	—	0

*Ответами к заданиям 1–10 являются целое число, конечная десятичная дробь или последовательность цифр. Ответ запишите в поле ответа в тексте работы, затем перенесите в БЛАНК ОТВЕТОВ справа от номера соответствующего задания. Единицы измерений писать не нужно.*

**1** Представьте выражение  $\frac{5}{3} \cdot \frac{9}{2}$  в виде дроби со знаменателем 24. В ответ запишите числитель получившейся дроби.

Ответ: \_\_\_\_\_.

**2** Найдите корень уравнения  $8 + 7x = 9x + 4$ .

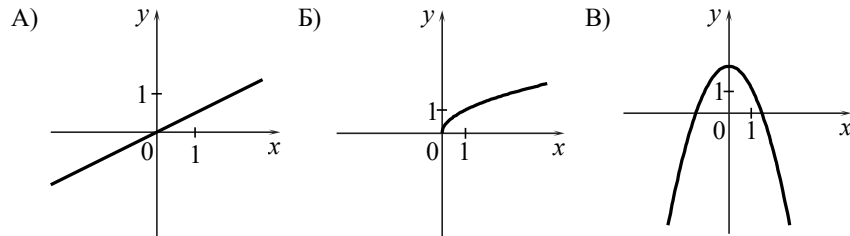
Ответ: \_\_\_\_\_.

**3** Найдите значение выражения  $\frac{8}{x} - \frac{9}{5x}$  при  $x = 0,4$ .

Ответ: \_\_\_\_\_.

**4** Установите соответствие между графиками функций и формулами, которые их задают.

**ГРАФИКИ**



**ФОРМУЛЫ**

- 1)  $y = \frac{1}{2}x$       2)  $y = 2 - x^2$       3)  $y = \sqrt{x}$

В таблице под каждой буквой укажите соответствующий номер.

Ответ:

А	Б	В

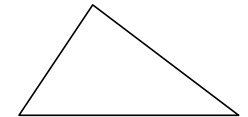
**5** Укажите решение неравенства

$$4x - 4 \geq 9x + 6.$$

- 1)  $[-0,4; +\infty)$     2)  $(-\infty; -2]$     3)  $[-2; +\infty)$     4)  $(-\infty; -0,4]$

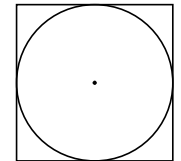
Ответ:

**6** В треугольнике два угла равны  $57^\circ$  и  $86^\circ$ . Найдите его третий угол. Ответ дайте в градусах.



Ответ: \_\_\_\_\_.

**7** Найдите площадь квадрата, описанного около окружности радиуса 40.



Ответ: \_\_\_\_\_.

**8** Какие из следующих утверждений верны?

- 1) Каждая из биссектрис равнобедренного треугольника является его высотой.
- 2) Если в параллелограмме две соседние стороны равны, то такой параллелограмм является ромбом.
- 3) Все диаметры одной и той же окружности равны между собой.

В ответ запишите номера выбранных утверждений без пробелов, запятых и других дополнительных символов.

Ответ: \_\_\_\_\_.

- 9 Первые 300 км автомобиль ехал со скоростью 60 км/ч, следующие 300 км — со скоростью 100 км/ч, а последние 300 км — со скоростью 75 км/ч. Найдите среднюю скорость автомобиля на протяжении всего пути.

Ответ: \_\_\_\_\_.

- 10 Вероятность того, что новая шариковая ручка пишет плохо (или не пишет), равна 0,19. Покупатель в магазине выбирает одну шариковую ручку. Найдите вероятность того, что эта ручка пишет хорошо.

Ответ: \_\_\_\_\_.

**Не забудьте перенести все ответы в БЛАНК ОТВЕТОВ в соответствии с инструкцией по выполнению работы.**

**Система оценивания экзаменационной работы по математике  
(300-е номера вариантов)**

Каждое из заданий 1–10 считается выполненным верно, если экзаменуемый дал верный ответ в виде целого числа, конечной десятичной дроби или последовательности цифр. Верное выполнение каждого задания оценивается 1 баллом. В ответе на задание 8 порядок записи цифр значения не имеет.

Номер задания	Правильный ответ
1	180
2	2
3	15,5
4	132
5	2
6	37
7	6400
8	23
9	75
10	0,81