

**Проверочная работа
по ГЕОГРАФИИ**

8 класс

Образец

Пояснение к образцу проверочной работы

На выполнение проверочной работы по географии отводится два урока (не более 45 минут каждый). Работа состоит из двух частей и включает в себя 17 заданий.

Обе части работы могут выполняться в один день с перерывом не менее 10 минут или в разные дни.

При выполнении работы не разрешается пользоваться учебниками, рабочими тетрадями, справочным материалом. При выполнении всех заданий работы можно использовать карты атласа 8 класса.

При необходимости можно пользоваться черновиком. Записи в черновике проверяться и оцениваться не будут.



В образце представлено по несколько примеров заданий 1, 2, 5, 6 и 7. В реальных вариантах проверочной работы на каждую из этих позиций будет предложено только одно задание.

*Таблица для внесения баллов участника**

Номер задания	Часть 1									Часть 2							Сумма баллов	Отметка за работу			
	1	2	3	4	5	6	7	8	9	10	11	12	13	14	15	16			17		
Баллы																					

* *Обратите внимание:* в случае, если какие-либо задания не могли быть выполнены целым классом по причинам, связанным с особенностями организации учебного процесса, в форме сбора результатов ВПР всем обучающимся класса за данные задания вместо баллов выставляется значение «Тема не пройдена». В соответствующие ячейки таблицы заполняется н/п.

Инструкция по выполнению заданий части 1 проверочной работы

На выполнение заданий части 1 проверочной работы по географии отводится один урок (не более 45 минут). Часть 1 включает в себя 9 заданий.

Ответы на задания запишите в поля ответов в тексте работы или в специально отведённом для ответа месте, указанном в задании. В случае записи неверного ответа зачеркните его и запишите рядом новый.

При выполнении заданий части 1 проверочной работы не разрешается пользоваться учебниками, рабочими тетрадями, справочным материалом. При выполнении всех заданий работы можно использовать карты атласа 8 класса.

При необходимости можно пользоваться черновиком. Записи в черновике проверяться и оцениваться не будут.

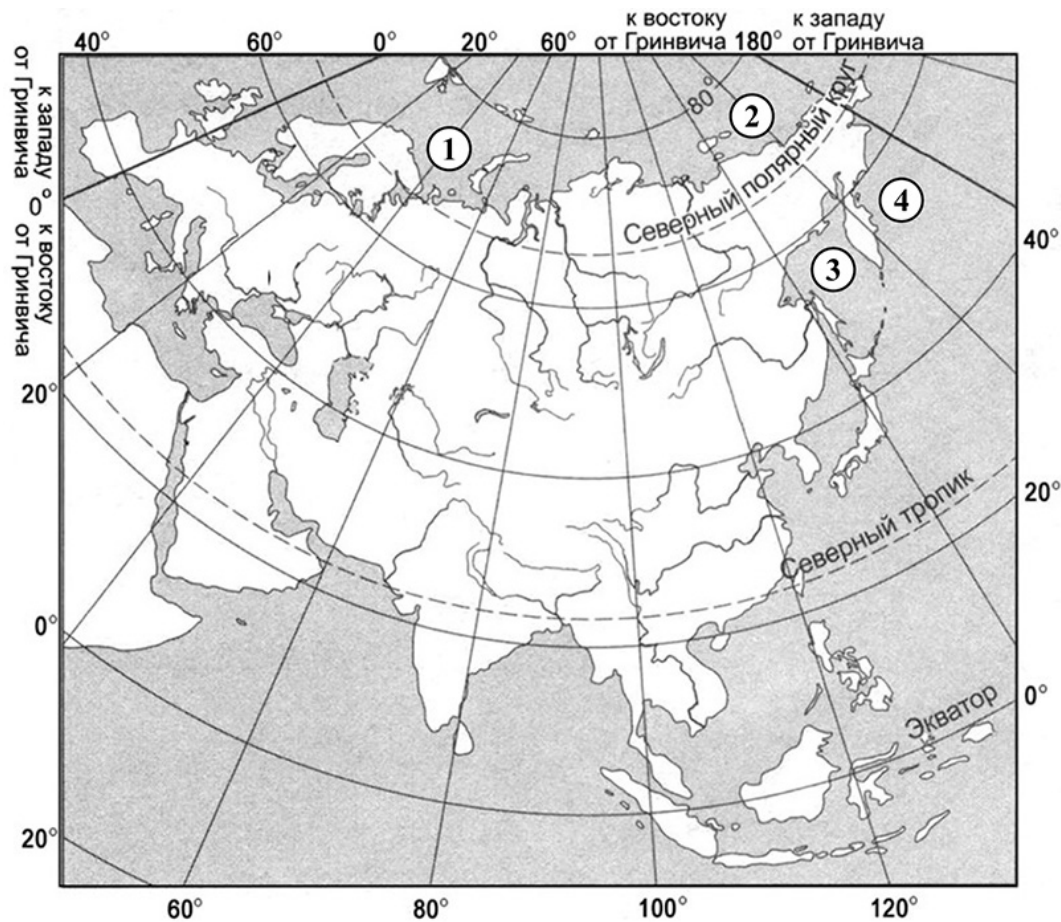
Советуем выполнять задания в том порядке, в котором они даны. В целях экономии времени пропускайте задание, которое не удаётся выполнить сразу, и переходите к следующему. Если после выполнения работы у Вас останется время, то Вы сможете вернуться к пропущенным заданиям.

Желаем успеха!

Часть 1

1

Россия расположена в северной части материка Евразия и занимает более 30 % его территории. Установите соответствие между морями, омывающими территорию России, и их обозначениями на карте Евразии: к каждому элементу первого столбца подберите соответствующий элемент из второго столбца.



МОРЯ		ОБОЗНАЧЕНИЯ НА КАРТЕ	
А) Берингово		1) 1	
Б) Восточно-Сибирское		2) 2	
В) Охотское		3) 3	
		4) 4	

Запишите в таблицу выбранные цифры под соответствующими буквами.

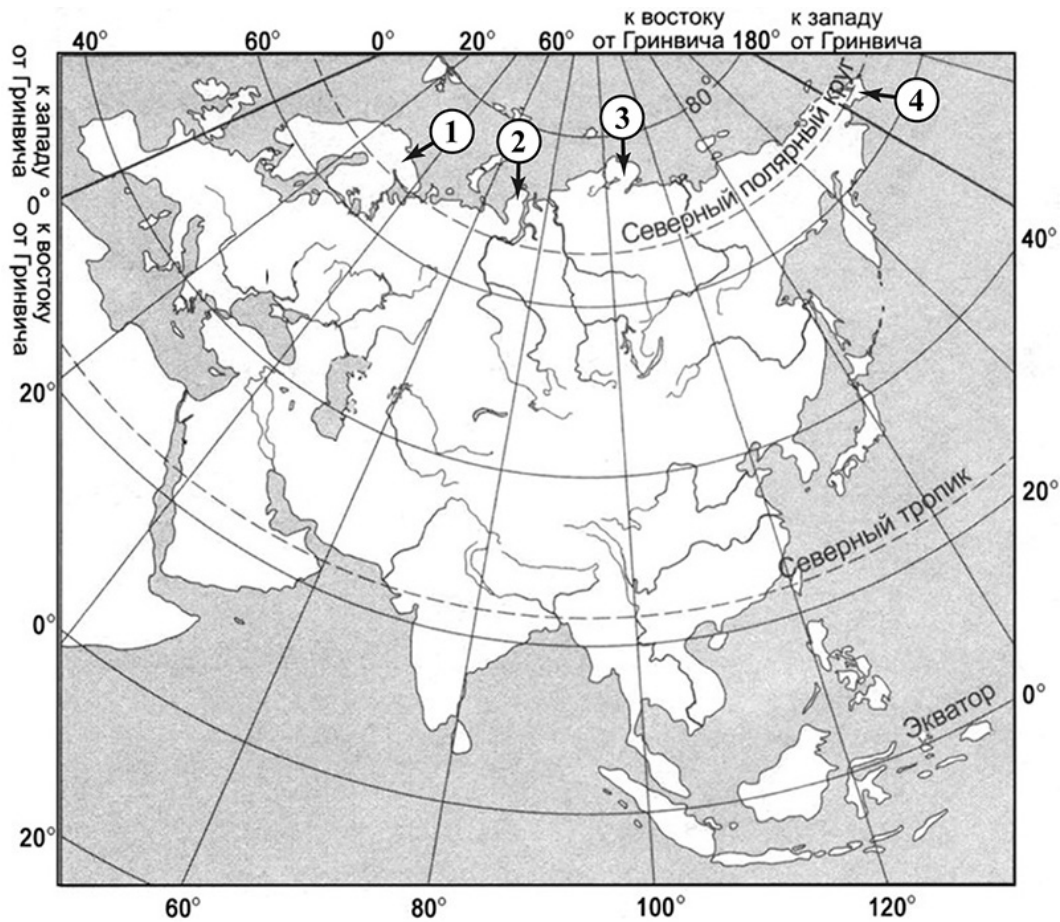


Ответ:

А	Б	В

ИЛИ

- 1 Протяжённость береговой линии морей, омывающих территорию России, превышает 60 000 км. Установите соответствие между элементами береговой линии России и их обозначениями на карте Евразии: к каждому элементу первого столбца подберите соответствующий элемент из второго столбца.



ЭЛЕМЕНТЫ БЕРЕГОВОЙ ЛИНИИ

- А) Кольский полуостров
- Б) полуостров Таймыр
- В) Чукотский полуостров

ОБОЗНАЧЕНИЯ НА КАРТЕ

- 1) 1
- 2) 2
- 3) 3
- 4) 4

Запишите в таблицу выбранные цифры под соответствующими буквами.

Ответ:

А	Б	В

2 С какой из перечисленных стран граничит Россия?

- 1) Узбекистан
- 2) Казахстан
- 3) Таджикистан
- 4) Туркменистан

Запишите номер выбранной страны.

Ответ:

ИЛИ

2 Выберите из списка название страны, которое нужно вставить на место пропуска.

Многие участки Государственной границы России проходят по рекам. Большая часть Государственной границы России и _____ проходит по реке Амуру.

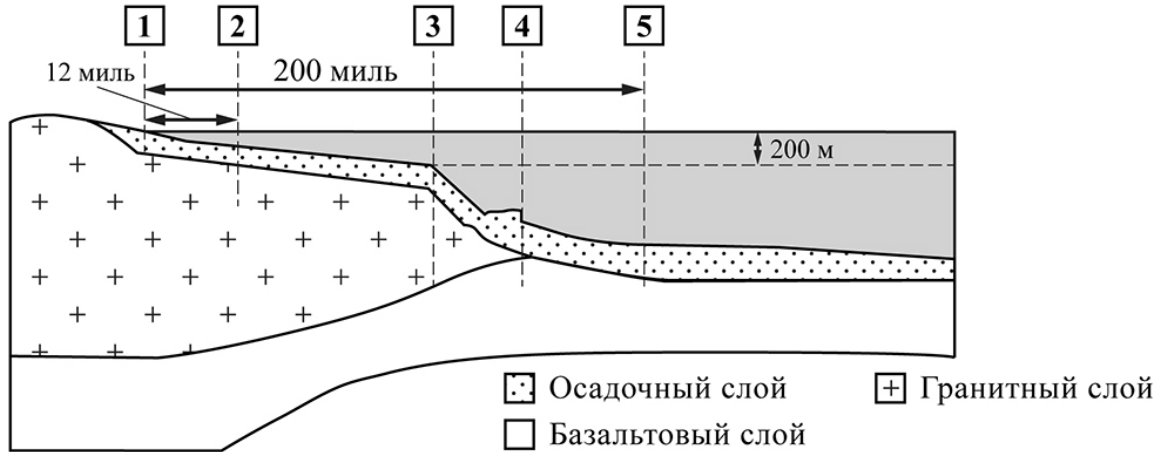
- 1) Монголия
- 2) Казахстан
- 3) Китай
- 4) КНДР

Запишите номер выбранной страны.

Ответ:

3

Россия имеет суверенные права на разведку и разработку природных ресурсов в пределах своего континентального шельфа. Установите соответствие между границами континентального шельфа России и цифрами, которыми они обозначены на рисунке: к каждому элементу первого столбца подберите соответствующий элемент из второго столбца.



ГРАНИЦЫ КОНТИНЕНТАЛЬНОГО ШЕЛЬФА РОССИИ

ОБОЗНАЧЕНИЯ НА РИСУНКЕ

- | | |
|---------------|------|
| А) внутренняя | 1) 1 |
| Б) внешняя | 2) 2 |
| | 3) 3 |
| | 4) 4 |
| | 5) 5 |

Запишите в таблицу выбранные цифры под соответствующими буквами.

Ответ:

А	Б

4

Иван с Марией живут в Свердловской области. Они решили на майские праздники отправиться в путешествие в Республику Карелия. Они купили билеты на самолёт из своего областного центра до Петрозаводска – республиканской столицы. Заполните пропуски в авиабилете: впишите название пункта вылета и время прилёта в пункт назначения (местное время).

город _____		город <u>Петрозаводск</u>	
Время вылета – 11:00		Время прилёта – _____	
Расчётное время полёта – 3 часа			

- 5 Установите соответствие между примерами природных ресурсов и типами, к которым они относятся: к каждому элементу первого столбца подберите соответствующий элемент из второго столбца.

ПРИМЕРЫ ПРИРОДНЫХ
РЕСУРСОВ

- А) энергия ветра
Б) нефть
В) природный газ

ТИПЫ ПРИРОДНЫХ
РЕСУРСОВ

- 1) исчерпаемые невозобновляемые
2) неисчерпаемые

Запишите в таблицу выбранные цифры под соответствующими буквами.

Ответ:

А	Б	В

ИЛИ

- 5 Установите соответствие между энергетическими природными ресурсами и типами к которым они относятся: к каждому элементу первого столбца подберите соответствующий элемент из второго столбца.

ЭНЕРГЕТИЧЕСКИЕ РЕСУРСЫ

- А) энергия ветра
Б) энергия рек
В) природный газ

ТИПЫ ПРИРОДНЫХ
РЕСУРСОВ

- 1) возобновляемые
2) невозобновляемые

Запишите в таблицу выбранные цифры под соответствующими буквами.

Ответ:

А	Б	В

ИЛИ

- 5 Установите соответствие между примерами хозяйственной деятельности и типами природопользования, к которым они относятся: к каждому элементу первого столбца подберите соответствующий элемент из второго столбца.

ПРИМЕРЫ ХОЗЯЙСТВЕННОЙ
ДЕЯТЕЛЬНОСТИ

- А) использование металлолома для выплавки стали
Б) сжигание попутного нефтяного газа в факелах при добыче нефти
В) строительство ветровых электростанций

ТИПЫ
ПРИРОДОПОЛЬЗОВАНИЯ

- 1) рациональное
2) нерациональное

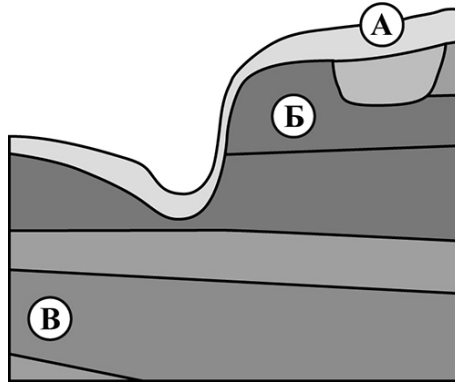
Запишите в таблицу выбранные цифры под соответствующими буквами.

Ответ:

А	Б	В

6

Ученики изучали геологическое строение территории своего края – анализировали профиль геологического строения, показанный на рисунке. Установите соответствие между слоями горных пород, обозначенными на рисунке буквами, и геологическими эрами, к которым относится их образование: к каждому элементу первого столбца подберите соответствующий элемент из второго столбца.



СЛОЙ ГОРНЫХ ПОРОД

ГЕОЛОГИЧЕСКИЕ ЭРЫ

- A) А
- Б) Б
- В) В

- 1) мезозойская
- 2) кайнозойская
- 3) палеозойская

Запишите в таблицу выбранные цифры под соответствующими буквами.



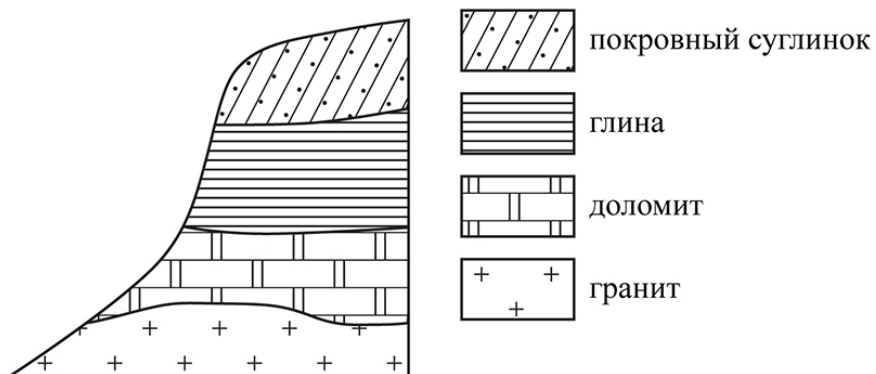
Ответ:

А	Б	В

ИЛИ

6

Во время экскурсии учащиеся сделали схематическую зарисовку залегания горных пород на обрыве в карьере.



Расположите показанные на рисунке слои горных пород в порядке увеличения их возраста (от самого молодого до самого древнего). Запишите в таблицу получившуюся последовательность цифр.

- 1) глина
- 2) покровный суглинок
- 3) гранит



Ответ:

--	--	--

7

Затраты на отопление жилых и производственных помещений в холодное время года в значительной степени зависят от средних зимних температур. В каком из перечисленных городов средние температуры января самые низкие?

- 1) Санкт-Петербург
- 2) Казань
- 3) Красноярск
- 4) Ставрополь

Запишите номер выбранного города.

Ответ:

ИЛИ

7

От степени плодородия почв во многом зависит урожайность сельскохозяйственных культур. В каком из перечисленных регионов России почвенный слой обладает наибольшим естественным плодородием?

- 1) Республика Карелия
- 2) Кировская область
- 3) Ростовская область
- 4) Новосибирская область

Запишите номер выбранного региона.

Ответ:

ИЛИ

7

Водный режим рек оказывает большое влияние на судоходство и работу гидроэлектростанций. Для какой из перечисленных рек характерно летнее половодье?

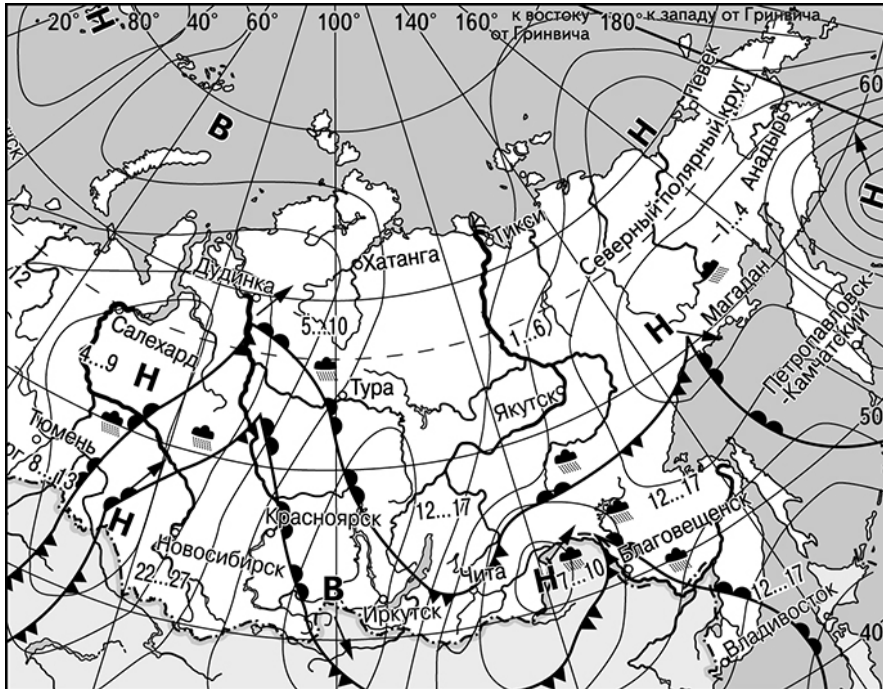
- 1) Амур
- 2) Волга
- 3) Нева
- 4) Ангара

Запишите номер выбранной реки.

Ответ:

Задания 8 и 9 выполняются с использованием приведённой ниже карты погоды.

Карта погоды на 2 июня (на 15 часов по московскому времени)



- В** Область высокого атмосферного давления
- Н** Область низкого атмосферного давления
- Направление перемещения циклонов и антициклонов
- Тёплый атмосферный фронт
- ▲— Холодный атмосферный фронт
- 4...9 Температура воздуха (°C)
- Изобары
- ☁ Дождь

8

Аня из Якутска прослушала прогноз погоды по радио: «Завтра, 3 июня, ожидается потепление, в первой половине дня возможен дождь, ветер юго-западный, умеренный», но не услышала, для её ли города этот прогноз был составлен. С помощью карты определите, для какого из показанных на карте населённых пунктов был составлен этот прогноз.

□

Ответ: _____

9

Прочитайте прогноз погоды на 3 июня для города Благовещенска: «3 июня в Благовещенске значительно похолодает, в дневные часы столбики термометров опустятся до +10 °С. Ожидается пасмурная погода с дождём и ветром с порывами до 12–15 м/с».

Объясните, почему в Благовещенске ожидается выпадение атмосферных осадков.

□

Ответ: _____

Инструкция по выполнению заданий части 2 проверочной работы

На выполнение заданий части 2 проверочной работы по географии отводится один урок (не более 45 минут). Часть 2 включает в себя 8 заданий.

Ответы на задания запишите в поля ответов в тексте работы или в специально отведённом для ответа месте, указанном в задании. В случае записи неверного ответа зачеркните его и запишите рядом новый.

При выполнении заданий части 2 проверочной работы не разрешается пользоваться учебниками, рабочими тетрадями, справочным материалом. При выполнении всех заданий работы можно использовать карты атласа 8 класса.

Для выполнения задания 14 Вам потребуется калькулятор.

При необходимости можно пользоваться черновиком. Записи в черновике проверяться и оцениваться не будут.

Советуем выполнять задания в том порядке, в котором они даны. В целях экономии времени пропускайте задание, которое не удаётся выполнить сразу, и переходите к следующему. Если после выполнения работы у Вас останется время, то Вы сможете вернуться к пропущенным заданиям.

Желаем успеха!

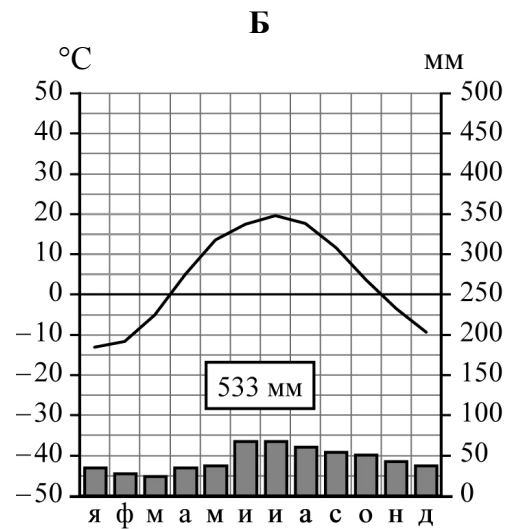
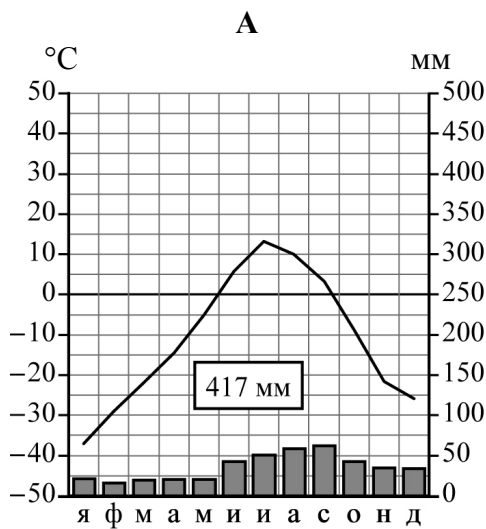
Часть 2

Задания 10 и 11 выполняются с использованием приведённых ниже климатограмм.

Ниже представлены климатограммы, отображающие климат Норильска и Казани. Рассмотрите климатограммы и выполните задания.

10

Определите, какому климатическому поясу / типу климата соответствует каждая климатограмма. Подпишите название климатического пояса / типа климата под соответствующей климатограммой, выбрав его из приведённого списка.



Климатические пояса / типы климата:

- арктический,
- субарктический,
- умеренный / морской,
- умеренный / умеренно континентальный,
- умеренный / континентальный,
- умеренный / резко континентальный,
- умеренный / муссонный,
- субтропический.

- 11 Школьник из Норильска отправил письмо с описанием особенностей местного климата своему другу, который живёт в Казани.

Климат в нашем городе суровый. Морозы начинаются уже в сентябре – октябре, а зимой достигают $-40-45^{\circ}\text{C}$. Зимой снега немного, но дуют сильные холодные ветры и часты метели. Лето короткое и прохладное, температура не поднимается выше $+15^{\circ}\text{C}$. Большая часть осадков выпадает в начале осени.

Используя сведения, содержащиеся в письме, определите, какая климатограмма построена по данным метеонаблюдений в городе Норильске. Укажите в ответе букву, которой она обозначена, и заполните таблицу климатических показателей по этой климатограмме.

Ответ:

Климатограмма – _____

Климатические показатели:

Средняя температура воздуха, $^{\circ}\text{C}$		Годовая амплитуда температур, $^{\circ}\text{C}$	Годовое количество осадков, мм	Месяц, на который приходится наибольшее количество осадков
в январе	в июле			

- 12 Установите соответствие между городами и группами по численности населения, к которым они относятся: к каждому элементу первого столбца подберите соответствующий элемент из второго столбца.

ГОРОДА

- А) Вологда
- Б) Омск
- В) Оренбург

ГРУППЫ ПО ЧИСЛЕННОСТИ НАСЕЛЕНИЯ

- 1) от 100 до 500 тыс.
- 2) от 500 тыс. до 1 млн
- 3) более 1 млн

Запишите в таблицу выбранные цифры под соответствующими буквами.

Ответ:

А	Б	В

Задания 13 и 14 выполняются с использованием статистических данных.

**Численность и естественный прирост населения
некоторых регионов России (человек)**

Регион	Численность постоянного населения на 1 января			Естественный прирост населения, значение показателя за год		
	2020 г.	2021 г.	2022 г.	2020 г.	2021 г.	2022 г.
Владимирская область	1 358 416	1 342 099	1 323 659	-14 490	-18 914	-13 671
Архангельская область	1 136 535	1 127 051	1 114 322	-7147	-10 788	-7298
Мурманская область	741 404	732 864	724 452	-3437	-5547	-3122
Республика Тыва	327 383	330 368	331 488	-2121	-3266	3080

13 В каком из регионов в 2022 г. показатель рождаемости населения превышал показатель смертности?

- 1) Владимирская область
- 2) Архангельская область
- 3) Мурманская область
- 4) Республика Тыва

Запишите номер выбранного региона.

Ответ:

14 Определите величину миграционного прироста населения Владимирской области в 2021 г.

Ответ: _____ человек(а).

15 В каком из перечисленных регионов средняя плотность населения наибольшая?

- 1) Владимирская область
- 2) Архангельская область
- 3) Мурманская область
- 4) Республика Тыва

Запишите номер выбранного региона.

Ответ:

Задания 16 и 17 выполняются с использованием приведённого ниже текста.

Особенности рельефа Карелии

Карелия находится на северо-западе Восточно-Европейской (Русской) равнины. В её основании залегает Балтийский щит – одна из древнейших структур земной коры. Выходы на поверхность твёрдых магматических и метаморфических горных пород – гранитов, гнейсов, кварцитов – распространены на всей территории республики.

Большую часть территории занимает испещрённая озёрами холмистая равнина с высотами от 100 до 120 м. Вдоль северо-западной границы Карелии протянулись невысокие (576 м) горы Манселькя.

Характерной особенностью рельефа Карелии являются повсеместно встречающиеся плоские сглаженные округлые скалы из твёрдых кристаллических пород – «бараньи лбы», валуны и глыбы внушительных размеров.

16

Какие структуры земной коры называют щитами?

Ответ: _____

17

Объясните, как образовались сглаженные округлые скалы из твёрдых кристаллических пород.

Ответ: _____

Система оценивания проверочной работы

Часть 1

Полный правильный ответ на каждое из заданий 1–3 и 5–8 оценивается 1 баллом. Если в ответе допущена хотя бы одна ошибка (один из элементов ответа записан неправильно или не записан), выставляется 0 баллов.

Номер задания	Правильный ответ		
	1	423	134
2	2	3	
3	24		
5	211	112	121
6	213		213
7	3	3	1
8	Тура		

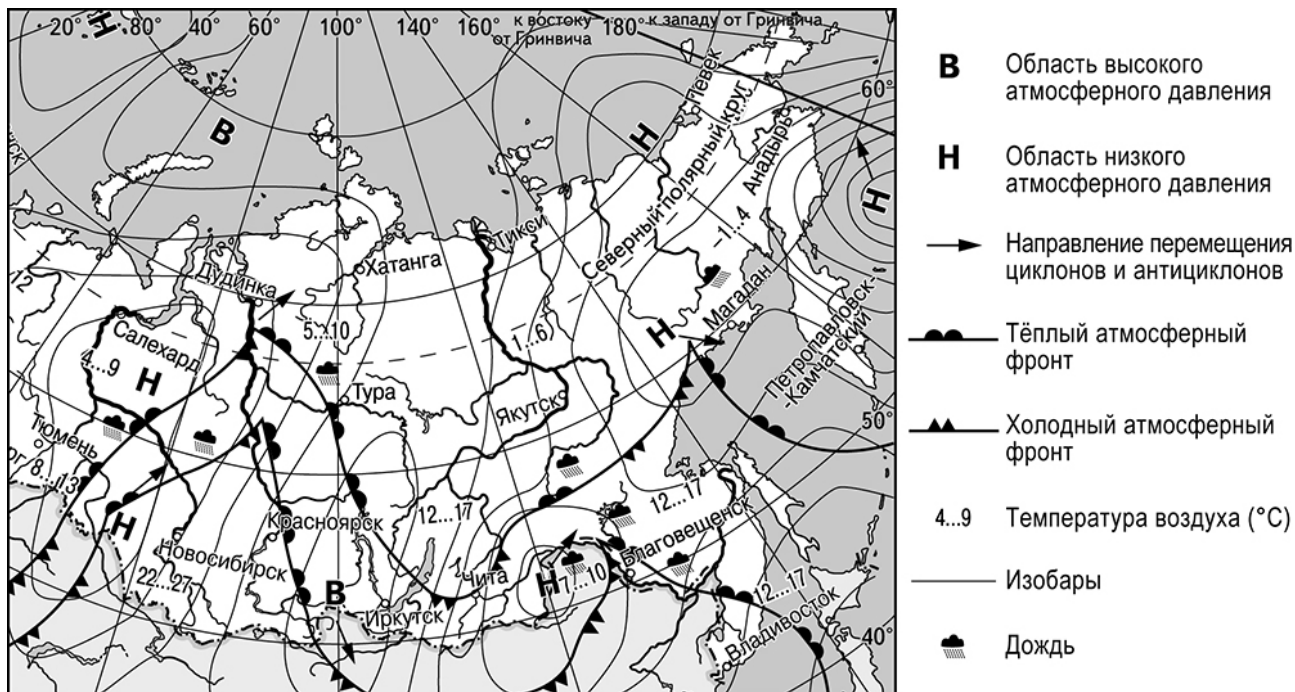
4

Иван с Марией живут в Свердловской области. Они решили на майские праздники отправиться в путешествие в Республику Карелия. Они купили билеты на самолёт из своего областного центра до Петрозаводска – республиканской столицы. Заполните пропуски в авиабилете: впишите название пункта вылета и время прилёта в пункт назначения (местное время).

Содержание верного ответа и указания по оцениванию	Баллы
<p>Правильный ответ должен содержать изображение авиабилета с <u>заполненными пропусками</u>:</p> 	
Правильно заполнены оба пропуска	2
Правильно заполнен только один пропуск	1
Все ответы, которые не соответствуют вышеуказанным критериям выставления оценок в 1 и 2 балла	0
<i>Максимальный балл</i>	<i>2</i>

Задания 8 и 9 выполняются с использованием приведённой ниже карты погоды.

Карта погоды на 2 июня (на 15 часов по московскому времени)



9

Прочитайте прогноз погоды на 3 июня для города Благовещенска: «3 июня в Благовещенске значительно похолодает, в дневные часы столбики термометров опустятся до +10 °С. Ожидается пасмурная погода с дождём и ветром с порывами до 12–15 м/с».

Объясните, почему в Благовещенске ожидается выпадение атмосферных осадков.

Содержание верного ответа и указания по оцениванию (допускаются иные формулировки ответа, не искажающие его смысла)	Баллы
В ответе говорится о прохождении холодного атмосферного фронта	
Ответ содержит названный выше элемент	1
Все ответы, которые не соответствуют вышеуказанному критерию выставления оценки в 1 балл	0
<i>Максимальный балл</i>	<i>1</i>

Система оценивания проверочной работы

Часть 2

Полный правильный ответ на каждое из заданий 12–15 оценивается 1 баллом. Если в ответе допущена хотя бы одна ошибка (один из элементов ответа записан неправильно или не записан), выставляется 0 баллов.

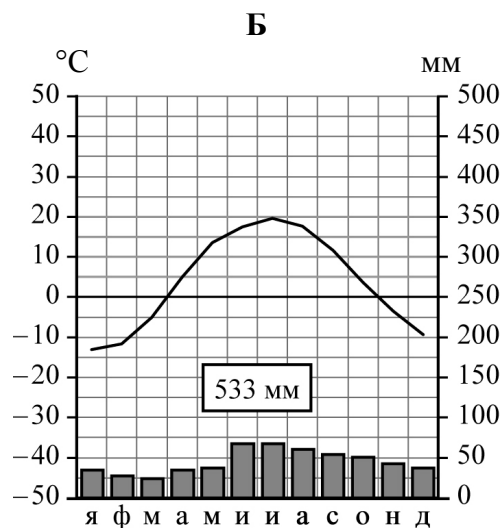
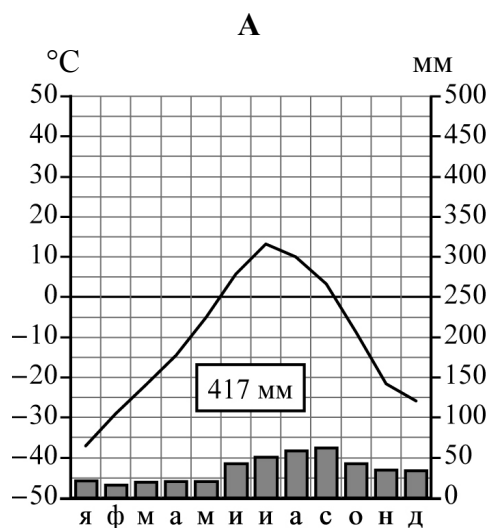
Номер задания	Правильный ответ
12	132
13	4
14	474
15	1

Задания 10 и 11 выполняются с использованием приведённых ниже климатограмм.

Ниже представлены климатограммы, отображающие климат Норильска и Казани. Рассмотрите климатограммы и выполните задания.

10

Определите, какому климатическому поясу / типу климата соответствует каждая климатограмма. Подпишите название климатического пояса / типа климата под соответствующей климатограммой, выбрав его из приведённого списка.



Климатические пояса / типы климата:

арктический,
 субарктический,
 умеренный / морской,
 умеренный / умеренно континентальный,
 умеренный / континентальный,
 умеренный / резко континентальный,
 умеренный / муссонный,
 субтропический.

Содержание верного ответа и указания по оцениванию	Баллы
Правильный ответ должен содержать следующие <u>элементы</u> : 1) <u>климатограмма</u> А – субарктический; 2) <u>климатограмма</u> Б – умеренный / умеренно континентальный	
Ответ включает в себя оба названных выше элемента	2
Ответ включает в себя один (любой) из названных выше элементов	1
Все ответы, которые не соответствуют вышеуказанным критериям выставления оценок в 1 и 2 балла	0
<i>Максимальный балл</i>	2

11

Школьник из Норильска отправил письмо с описанием особенностей местного климата своему другу, который живёт в Казани.

Климат в нашем городе суровый. Морозы начинаются уже в сентябре – октябре, а зимой достигают $-40-45^{\circ}\text{C}$. Зимой снега немного, но дуют сильные холодные ветры и часты метели. Лето короткое и прохладное, температура не поднимается выше $+15^{\circ}\text{C}$. Большая часть осадков выпадает в начале осени.

Используя сведения, содержащиеся в письме, определите, какая климатограмма построена по данным метеонаблюдений в городе Норильске. Укажите в ответе букву, которой она обозначена, и заполните таблицу климатических показателей по этой климатограмме.

Содержание верного ответа и указания по оцениванию					Баллы
Правильный ответ должен содержать следующие <u>элементы</u> : 1) <u>указание климатограммы</u> : А; 2) <u>заполненная таблица</u> с климатическими показателями:					
Средняя температура воздуха, $^{\circ}\text{C}$		Годовая амплитуда температур, $^{\circ}\text{C}$	Годовое количество осадков, мм	Месяц, на который приходится наибольшее количество осадков	
в январе	в июле				
-37	+13	50	417	сентябрь	
<i>При определении средних температур допускается погрешность $\pm 1^{\circ}\text{C}$</i>					
Правильно указана климатограмма, правильно заполнена таблица					2
Правильно указана климатограмма, в таблице допущена одна ошибка					1
Правильно указана климатограмма; в таблице допущено две или более ошибки / таблица не заполнена. ИЛИ Климатограмма не указана / указана неправильно независимо от заполнения таблицы. ИЛИ Ответ неправильный					0
<i>Максимальный балл</i>					2

Задания 16 и 17 выполняются с использованием приведённого ниже текста.

Особенности рельефа Карелии

Карелия находится на северо-западе Восточно-Европейской (Русской) равнины. В её основании залегает Балтийский щит – одна из древнейших структур земной коры. Выходы на поверхность твёрдых магматических и метаморфических горных пород – гранитов, гнейсов, кварцитов – распространены на всей территории республики.

Большую часть территории занимает испещрённая озёрами холмистая равнина с высотами от 100 до 120 м. Вдоль северо-западной границы Карелии протянулись невысокие (576 м) горы Манселькя.

Характерной особенностью рельефа Карелии являются повсеместно встречающиеся плоские сглаженные округлые скалы из твёрдых кристаллических пород – «бараньи лбы», валуны и глыбы внушительных размеров.

16 Какие структуры земной коры называют щитами?

Содержание верного ответа и указания по оцениванию (допускаются иные формулировки ответа, не искажающие его смысла)	Баллы
В ответе говорится, что щитами называют выходы на поверхность древних кристаллических пород фундамента платформы	
Ответ содержит названный выше элемент	1
Все ответы, которые не соответствуют вышеуказанному критерию выставления оценки в 1 балл	0
<i>Максимальный балл</i>	<i>1</i>

17 Объясните, как образовались сглаженные округлые скалы из твёрдых кристаллических пород.

Содержание верного ответа и указания по оцениванию (допускаются иные формулировки ответа, не искажающие его смысла)	Баллы
В ответе говорится, что «бараньи лбы» образовались в результате деятельности ледника ИЛИ скалы были сглажены ледником при движении	
Ответ содержит названный выше элемент	1
Все ответы, которые не соответствуют вышеуказанному критерию выставления оценки в 1 балл	0
<i>Максимальный балл</i>	<i>1</i>

Система оценивания выполнения всей работы

Максимальный первичный балл за выполнение работы – **20**.

Рекомендации по переводу первичных баллов в отметки по пятибалльной шкале

Отметка по пятибалльной шкале	«2»	«3»	«4»	«5»
Первичные баллы	0–5	6–11	12–17	18–20