

1 вариант

№1. Какое утверждение географического положения России верно?

- А) Россия имеет выход к Индийскому океану.
- Б) Россия имеет сухопутную границу с Таджикистаном.
- В) Россия имеет выход к Северному Ледовитому океану.
- Г) Россия имеет сухопутную границу с Молдавией.

№2. На границе с какой из перечисленных стран находится крайняя южная точка России?

- А) Казахстан
- Б) Китай
- В) Финляндия
- Г) Азербайджан

№3. Какая горная вершина является самой высокой в России?

- А) Белуха
- Б) Народная
- В) Эльбрус
- Г) Ключевская Сопка

№4. Расположите субъекты РФ в последовательности, в которой их жители встречают Новый год. Запишите получившуюся последовательность букв.

- А) Новосибирская область
- Б) Ростовская область
- В) Республика Бурятия

№6. Какой из перечисленных городов России находится в сейсмоопасной зоне?

- А) Архангельск
- Б) Волгоград
- В) Самара
- Г) Петропавловск-Камчатский

№7. Огромные валуны, встречающиеся на территории северо-запада России – это результат:

- А) деятельности текучих вод
- Б) деятельности ветра
- В) деятельности древнего ледника
- Г) извержений древних вулканов

№8. Западно-Сибирская равнина и Среднесибирское плоскогорье отделены друг от друга:

- А) рекой Обь
- Б) Уральскими горами
- В) рекой Енисей
- Г) горами Алтай

№9. Какое из перечисленных морей омывает восточные берега России?

- А) Азовское
- Б) Баренцево
- В) Охотское
- Г) Лаптевых

№10. Установите соответствие между видами природных ресурсов и типами, к которым они относятся:**ВИДЫ РЕСУРСОВ:**

- А. Энергия ветра
- Б. Минеральные
- В. Лесные
- Г. Почвенные

ТИПЫ РЕСУРСОВ:

- 1) исчерпаемые возобновимые
- 2) исчерпаемые невозобновимые
- 3) неисчерпаемые

А	Б	В	Г

№11. Примером нерационального природопользования является

- А) проведение снегозадержания В) создание лесополос в степной зоне
Б) осушение болот в верховьях рек Г) рекультивация земель

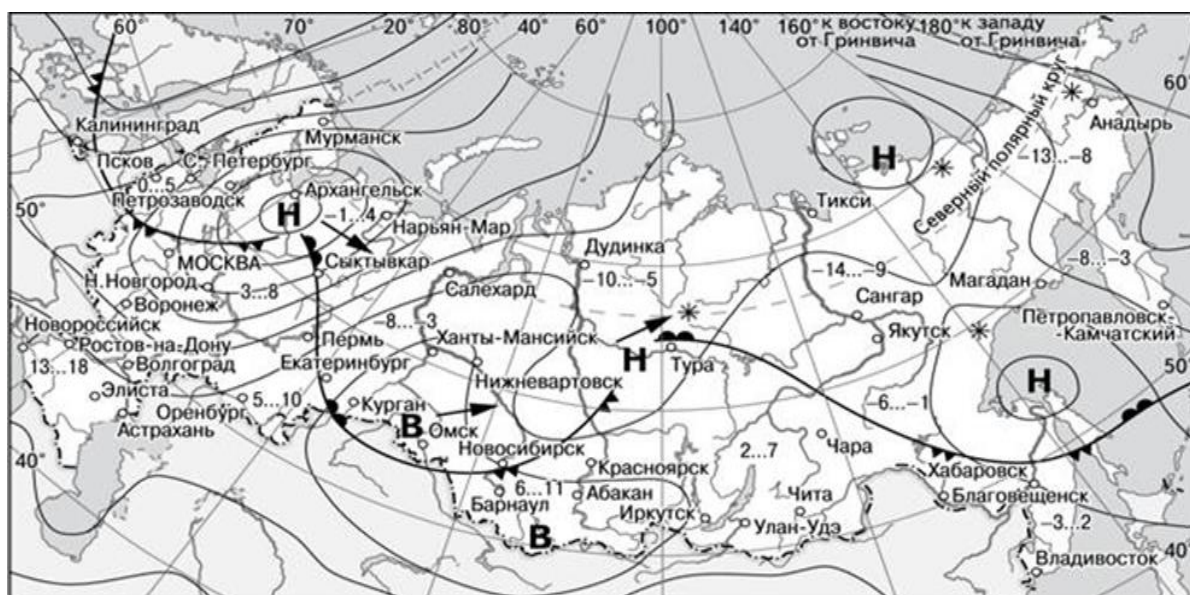
Задания 12-13 выполняются с использованием приведенной ниже карты погоды.

№12. Карта погоды составлена на 18 апреля 2018 г. В каком из перечисленных городов, показанных на карте, на следующий день наиболее вероятно существенное потепление?

- А) Калининград Б) Екатеринбург В) Москва Г) Хабаровск

№13. Какой из перечисленных городов, показанных на карте, находится в зоне действия циклона?

- А) Архангельск Б) Омск В) Новосибирск Г) Иркутск



- | | | | |
|----------|-------------------------------------------------|--------|----------------------------|
| В | Область высокого атмосферного давления | | Тёплый атмосферный фронт |
| Н | Область низкого атмосферного давления | | Холодный атмосферный фронт |
| | Направление перемещения циклонов и антициклонов | -3...2 | Температура воздуха (°C) |
| | | * | Снег |

№14. В каком из перечисленных регионов России средняя плотность населения наибольшая?

- А) Амурская область Б) Республика Бурятия В) Ямало-Ненецкий АО Г) республика Татарстан

№15. В каких двух высказываниях содержится информация о миграциях населения?

- 1) По итогам Всероссийской переписи населения 2010 г. численность городского населения составляла 105,3 млн человек (74%), около трети горожан проживало в 12 городах-миллионерах.
- 2) В 2009 г. средняя плотность населения Северо-Кавказского федерального округа была одна из самых высоких в стране: 54 человека на 1 км².
- 3) Число родившихся в России в январе – октябре 2012 г. выросло до 1586,9 тыс. чело-век против 1482,8 тыс. человек в январе – октябре 2011 г. При этом число умерших в январе – октябре 2012 г. сократилось до 1586,1 тыс. человек с 1610,2 тыс. человек годом ранее.
- 4) В 2010 г. число прибывших в Россию из других стран на постоянное место жительства было на 158 тыс. человек больше числа выбывших за пределы России.
- 5) В 2010 г. в Приволжский ФО на постоянное место жительства прибыло 398 446 человек, выбыло из округа — 406 649 человек.

№16. Какой из перечисленных городов является наибольшим по численности населения?

- А) Петрозаводск Б) Омск В) Иваново Г) Иркутск

Задания 17-18 выполняются по приведенной таблице

Коэффициенты рождаемости, смертности и миграционного прироста населения России в 2009–2012 гг. (на тыс. человек)

Годы	Рождаемость	Смертность	Миграционный прирост
2009	12,3	14,1	2,4
2010	12,5	14,2	1,9
2011	12,6	13,5	2,2
2012	13,3	13,3	2,1

№17. Определите коэффициент естественного прироста населения в 2010 г. Ответ запишите в виде числа.

№18. В каком из указанных годов превышение числа иммигрантов над числом эмигрантов в РФ было наибольшим?

- А) 2009 г. Б) 2010 г. В) 2011 г. Г) 2012 г

№19. Прочитайте фрагмент путевых заметок журналиста

« ...Единственный свободный вездеход в райцентре сломался и пришлось три часа дожидаться вертолета, чтобы добраться до посёлка газовиков. Во время полета мы не увидели привычных квадратиков и прямоугольников полей. Бескрайнюю равнину с блюдцами небольших озер прорезали только нитки трубопроводов. Несмотря на то, что на дворе был июнь, кое-где белел не растаявший снег...».

Определите, о какой природно-хозяйственной зоне говорится в заметке.

№20. Какая природно-хозяйственная зона занимает наибольшую часть территорию России?

- А) лесостепь
Б) тайга
В) смешанные и широколиственные леса
Г) тундра и лесотундр

№1. Какое утверждение географического положения России верно?

- А) Россия имеет сухопутную границу с Туркменистаном.
- Б) Россия имеет выход к Тихому океану.
- В) Россия имеет выход к Индийскому океану.
- Г) Россия имеет сухопутную границу с США.

№2. На территории какого субъекта находится крайняя западная точка России?

- А) Казахстан
- Б) Китай
- В) Финляндия
- Г) Азербайджан

№3. В какой горной системе находится высочайшая точка России?

- А) Алтай
- Б) Уральские горы
- В) Кавказ
- Г) Верхоянский хребет

№4. Расположите субъекты РФ в последовательности, в которой их жители встречают Новый год. Запишите получившуюся последовательность букв:

- А) Красноярский край
- Б) Краснодарский край
- В) Приморской край.

№6. Для безопасности людей в сейсмоопасных районах применяется особая технология строительства. В каком из перечисленных регионов России необходимо вести сейсмостойкое строительство?

- А) Сахалинская область
- Б) республика Калмыкия
- В) Ростовская область
- Г) Астраханская область

№7. Для какого из перечисленных субъектов Российской Федерации характерны формы рельефа, созданные ветром?

- А) Иркутская область
- Б) республика Карелия
- В) Астраханская область
- Г) Тульская область

№8. Восточно-Европейскую и Западно-Сибирскую равнины разделяет(-ют):

- А) река Обь
- Б) Уральские горы
- В) река Енисей
- Г) горы Алтай

№9. Какое из перечисленных морей омывает северные берега России:

- А) Балтийское
- Б) Карское
- В) Охотское
- Г) Японское

№10. Установите соответствие между видами природных ресурсов и типами, к которым они относятся:**ВИДЫ РЕСУРСОВ:**

- А. Солнечная энергия
- Б. Почвенные
- В. Лесные
- Г. Минеральные

ТИПЫ РЕСУРСОВ:

- 1) исчерпаемые возобновимые
- 2) исчерпаемые невозобновимые
- 3) неисчерпаемые

А	Б	В	Г

№11. Примером рационального природопользования является

- А) вырубка лесов в долинах рек
- Б) строительство ГЭС на равнинных реках
- В) производство бумаги из макулатуры
- Г) осушение болот в верховьях малых рек

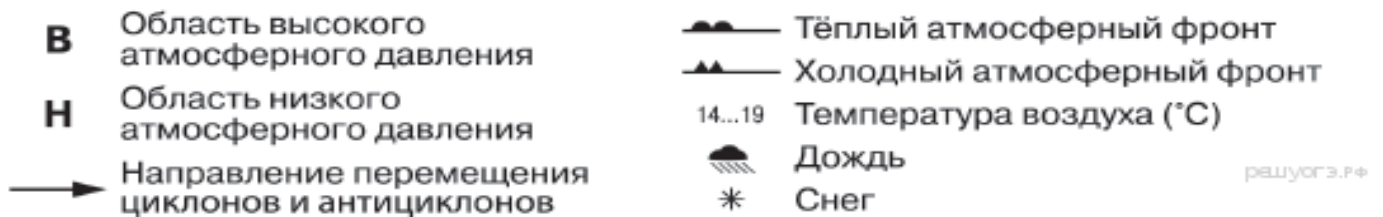
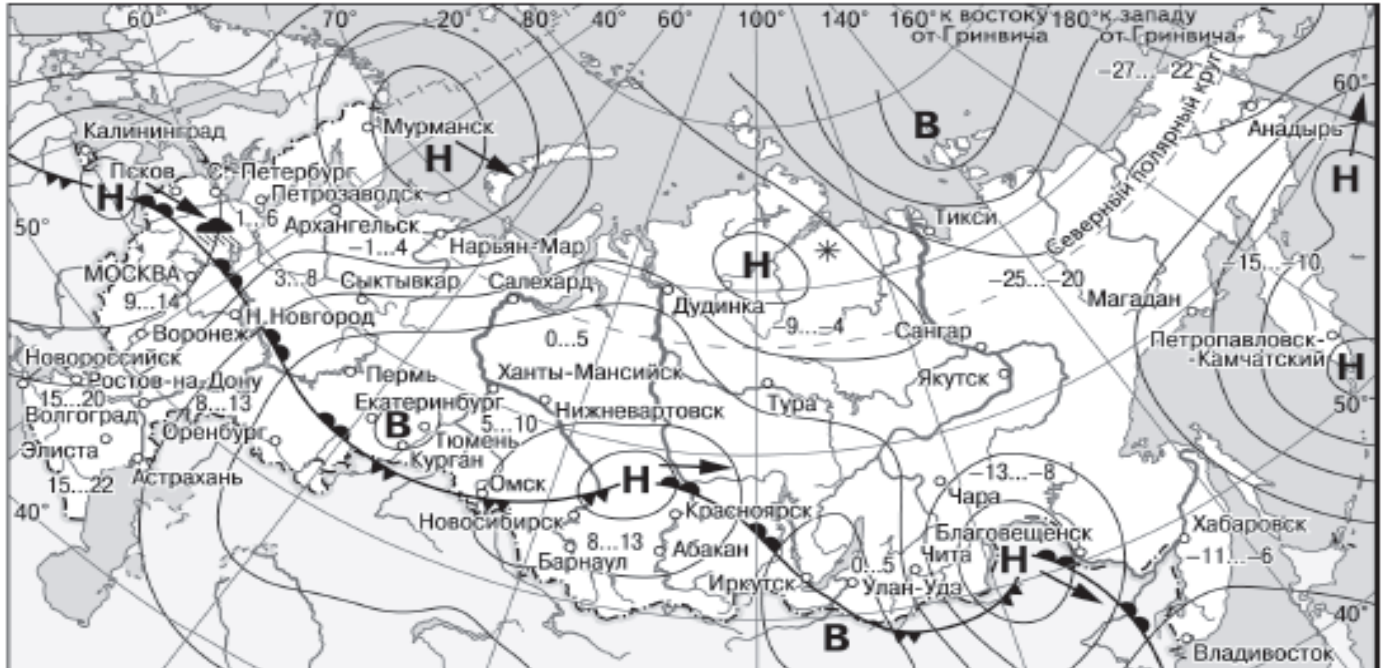
Задания 12-13 выполняются с использованием приведенной ниже карты погоды.

№12. Карта погоды составлена на 7 апреля. В каком из показанных на карте городов на следующий день наиболее вероятно существенное похолодание?

- А) Архангельск Б) Новосибирск В) Пермь Г) Благовещенск

№13. Какой из перечисленных городов, показанных на карте, находится в зоне действия антициклона?

- А) Благовещенск Б) Красноярск В) Магадан Г) Иркутск



№14. В какой из перечисленных областей средняя плотность населения России наименьшая?

- А) Архангельская Б) Нижегородская В) Новосибирская Г) Саратовская

№15. В каких двух высказываниях содержится информация о воспроизводстве населения?

- 1) По итогам Всероссийской переписи населения 2010 г. численность городского населения в стране составляла 105,3 млн человек (74%), около трети горожан проживало в 12 городах-миллионерах.
- 2) В 2009 г. средняя плотность населения Северо-Кавказского федерального округа была одна из самых высоких в стране: 54 человека на 1 м².
- 3) Число родившихся в РФ в январе — октябре 2012 г. выросло до 1586,9 тыс. человек против 1482,8 тыс. человек в январе — октябре 2011 г. При этом число умерших в январе — октябре 2012 г. сократилось до 1586,1 тыс. человек с 1610,2 тыс. человек годом ранее.
- 4) В 2009 г. в Москве было зарегистрировано 10,527 млн жителей, из них около 7 млн граждан трудоспособного возраста и 2,5 млн пенсионеров.
- 5) В 2011 г. число родившихся в Уральском федеральном округе превысило число умерших в 2010 г. на 18 472 человека.

№16. Какой из перечисленных городов является наибольшим по численности населения?

- А) Краснодар Б) Казань В) Ставрополь Г) Хабаровск

Задание 17 выполняется по приведенной таблице

Изменение численности населения Республики Башкортостан в 2007–2010 гг.

Показатель	2007 г.	2008 г.	2009 г.	2010 г.
Общий прирост населения за год, человек	1742	4561	8701	3197
Естественный прирост населения за год, человек	–3691	–1075	2360	2636

№17. Определите миграционный прирост населения Республики Башкортостан в 2010 г. Ответ запишите в виде числа.

№18. Используя график, определите показатель естественного прироста населения в России в 2000 г. ответ запишите в виде числа



№19. Определите, о какой природно-хозяйственной зоне говорится в заметке журналиста? «От областного центра до государственной границы добирались на машине. Часа два мы ехали по прямому шоссе. Всю дорогу вокруг нас, сколько хватало глаз, простирались бескрайние поля с колосющимися хлебами. Солнце палило нещадно. Невысокие деревца вдоль дороги как будто спрашивали: «Зачем вы посадили нас здесь? Нам тут непривычно и одиноко».

№20. Какая природно-хозяйственная зона России наиболее изменена человеком?

- А) степь Б) тайга В) смешанные и широколиственные леса Г) тундра и лесотундр