

Кузнецк Евы 5А 60бал

ВСЕРОССИЙСКАЯ ОЛИМПИАДА ШКОЛЬНИКОВ  
ПО ОСНОВАМ БЕЗОПАСНОСТИ И ЗАЩИТЫ  
РОДИНЫ 2024–2025 уч. г.  
ШКОЛЬНЫЙ ЭТАП

5–6 КЛАССЫ

Тестовые задания  
Время выполнения-45 минут

Определите один правильный ответ.

За правильный ответ начисляется 4 балла.

1. Определите смысловое значение данного дорожного знака.

- а) запрещение движения на велосипеде
- б) приоритет велосипеда при движении
- в) наличие велосипедной дорожки
- г) пересечение с велосипедной дорожкой или велопешеходной дорожкой




2. Запрещается выгуливать собак, появляться с ними в общественных местах и в транспорте детям младше

- а) 11 лет
- б) 12 лет
- в) 13 лет
- г) 14 лет

3. Определите смысловое значение данного знака, на водных объектах г. Москвы.

- а) «Купаться запрещено»
- б) «Входить в воду запрещено»
- в) «Опасно! Грязная вода»
- г) «Купаться запрещено без сопровождения взрослых»



4. Что представляет основную опасность во время грозы?

- а) удар молнии
- б) сильный порывистый ветер
- в) ливневый дождь
- г) раскат грома

5. Выберите единый номер системы обеспечения вызова экстренных оперативных служб субъекта Российской Федерации.
- а) 112
  - б) 911
  - в) 101
  - г) 102
6. Подземные толчки и колебания земной поверхности, возникающие в результате внезапных смещений и разрывов в земной коре или верхней части мантии Земли и передающиеся на большие расстояния в виде упругих колебаний, являются
- а) землетрясением
  - б) вулканическим землетрясением
  - в) эпицентром землетрясения
  - г) обвалом
7. Кому необходимо в первую очередь сообщить об обнаружении бесхозной вещи в наземном городском транспорте?
- а) водителю лично или через пассажиров
  - б) сотруднику полиции по телефону
  - в) сотруднику МЧС по телефону
  - г) диспетчеру по переговорному устройству
8. Какой витамин образуется в коже из провитаминов под воздействием солнечных лучей?
- а) А
  - б) В<sub>1</sub>
  - в) С
  - г) D
9. Какой признак является общим для всех закрытых механических травм?
- а) деформация
  - б) патологическая подвижность
  - в) отёк
  - г) укорочение повреждённой части конечности
10. Какое оптимальное положение тела придают пострадавшему с отсутствием сознания?
- а) лёжа на спине с приподнятой головой
  - б) лёжа на спине на ровной твёрдой поверхности
  - в) полусидя
  - г) устойчивое боковое положение

**Определите два правильных ответа.**

**За каждый правильный ответ начисляется 4 балла.**

0 баллов выставляется за неправильный ответ, а также если участником отмечены более двух ответов (в том числе правильные).

1. Определите смысловое значение и область применения данного знака безопасности на объектах инфраструктуры ОАО «РЖД». а) «Запрещается прикасаться. Корпус под напряжением». б) «Самовольное открытие и задержка закрытия дверей не допускается!» в) размещается в непосредственной близости от входных дверей в вокзал г) «Внимание. Опасность зажима». д) наклеивается в тамбурах возле автоматических дверей, ведущих на выход



2. Определите смысловое значение и группу данного знака безопасности. а) запрещающий знак

- б) «Запрещается прикасаться. Опасно»  
в) «Запрещается нажимать»  
г) предупреждающий знак  
д) «Не включать!»



3. Костёр ночью оптимально использовать для

- а) просушки вещей  
б) подачи светового сигнала  
в) обогрева  
г) приготовления пищи  
д) ночёвки

4. Что может являться источником природной ЧС?

- а) зазор  
б) химическая авария  
в) эпизоотия  
г) обвал  
д) катастрофа

5. К признакам возникновения урагана относят



- а) резкое падение атмосферного давления  
б) повышение температуры воздуха  
в) резкое прекращение дождя  
г) ливневые дожди  
д) быстрое исчезновение грозных облаков

6. К опасным гидрологическим явлениям и процессам относят
- а) карст
  - б) град
  - в) ливень
  - г) лавину (снежную)
  - д) сель
7. В каком положении лучше держать руки, оказавшись в толпе?
- а) перед грудью
  - б) перед лицом
  - в) отвести сильно в стороны
  - г) сцепить в замок
  - д) в карманах
8. Выберите группы факторов, которые оказывают равноценное влияние на здоровье человека по данным Всемирной организации здравоохранения.
- а) образ жизни
  - б) наследственность
  - в) уровень медицинского обеспечения
  - г) регулярность диспансеризации
  - д) состояние окружающей среды
9. Какие признаки свидетельствуют о наличии у пострадавшего частичной обструкции дыхательных путей при попадании в них инородного тела?
- а) может говорить
  - б) не может говорить
  - в) кашляет
  - г) дыхание значительно затруднено (шумное, хриплое)
  - д) дыхание отсутствует
10. Какие действия запрещены при оказании первой помощи пострадавшему с термическим ожогом?
- а) наложение нетугой повязки
  - б) вскрытие ожоговых пузырей
  - в) смазывание повреждённого участка жирами
  - г) охлаждение повреждённого участка
  - д) иммобилизация при глубоких ожогах

ЭТОБЕДИТЕЛЬ: 60 баллов / 50%

жюри:

Максимум за тестовые задания – 120 баллов

Яцук И.А.   
Шурбина О.В.   
Росенко Д.А. 